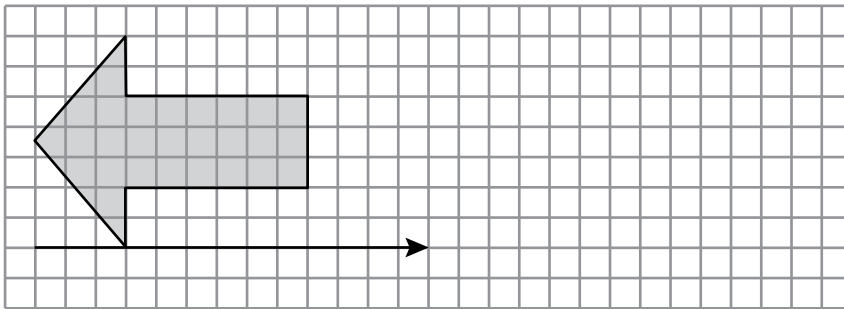



4 Completa el mosaico y coloréalo.



5 Copia y aplica la traslación que indica la flecha.

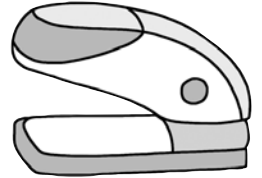
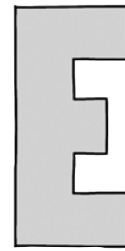


6 Dibuja un pentágono, un hexágono y un triángulo. Traza todos los ejes de simetría y completa.



- a) El pentágono tiene ejes de simetría.
- b) El hexágono tiene ejes de simetría.
- c) El triángulo tiene ejes de simetría.

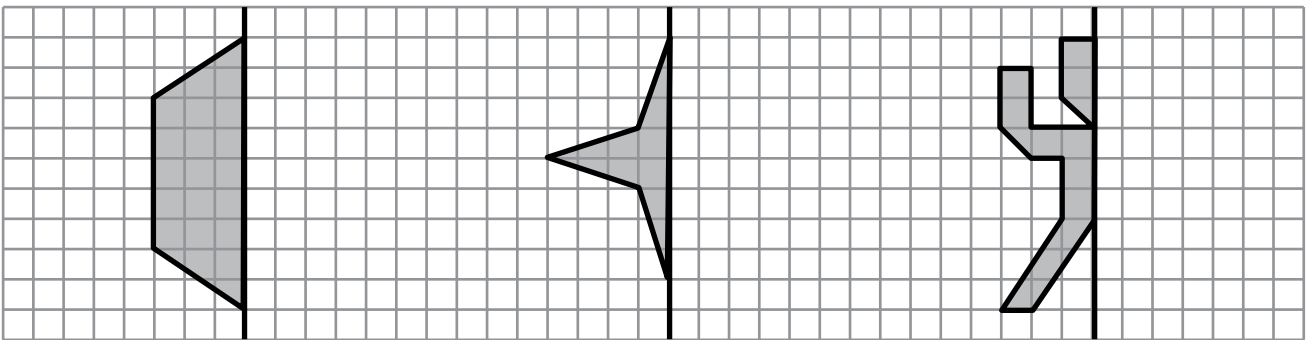
- 4 ¿Cuáles de estas figuras tienen eje de simetría? Dibuja el eje, en las figuras que lo tengan.



Tienen eje de simetría:

.....

- 5 Completa la mitad que falta para que cada figura sea simétrica respecto de la línea negra.



- 6 Dibuja la figura simétrica respecto de la línea negra.

