

# Geografia i Història Ciències Socials



**Treballs de reforç-recuperació per a l'estiu**

**3r Eso**

**Alumne/a:** \_\_\_\_\_

Nom: .....

Curs: .....

**1. Indica si aquestes afirmacions són verdaderes (V) o falses (F):**

- Les fotografies aèries es fan des dels avions i dels drons.
- Pràcticament tots els éssers humans poden accedir als SIG i beneficiar-se'n.
- Els geògrafs utilitzen mapes, gràfics i estadístiques per analitzar i estudiar la Terra.
- Els SIG permeten organitzar, emmagatzemar, analitzar, etc., gran quantitat d'informació.
- Els SIG necessiten únicament i exclusivament unes coordenades per funcionar correctament.

**2. Relaciona les següents afirmacions amb un continent determinat:**

- Hi distingim quatre grans zones: Australàsia, Melanèsia, Micronèsia i Polinèsia: .....
- És una gran massa de terra situada a la part oriental d'Euràsia: .....
- És un continent massís i uniforme amb nombrosos altiplans i cubetes: .....
- L'envolten els oceans Pacífic, Atlàntic i Índic: .....
- Els límits són els Urals, el Caucas i les mars Càspia, Negra i Mediterrània: .....
- S'estén des del Pol Nord fins al Cercle Polar Antàrtic: .....

**3. Describeu un paisatge típic de l'Espanya oceànica:**

.....

.....

.....

.....

.....

.....



**4. Completa la taula següent sobre els paisatges d'Europa:**

Paisatge	Zones geogràfiques	Vegetació	Presència humana
Oceànic			
Mediterrani			
Continental			

Nom: .....

Curs: .....

**1. Observa els paisatges i fes les activitats que et proposem a continuació:**

- Quina serralada has de travessar per passar la frontera espanyola? .....
- Quins són els cims més alts d'aquesta serralada? .....
- .....
- A quines zones de la serralada hi trobaràs els passos més accessibles? .....
- .....
- Quina mena de relleu podràs observar quan travessis la serralada? .....
- .....

**2. Observa els paisatges i fes les activitats que et proposem a continuació:****A****B****C****1. Anota a quina mena de paisatge correspon cada imatge:**

a. .... b. .... c. ....

**2. Explica les característiques principals de cada paisatge (clima, vegetació...)**

.....

.....

.....

.....

.....

**3. Indica quines activitats humanes s'han adaptat millor a aquests paisatges:**

.....

.....

.....

Nom: .....

Curs: .....

**1. Explica breument i amb les teves paraules què és un continent:**

.....  
 .....  
 .....

**2. Subratlla les muntanyes antigues i encercla les muntanyes joves d'Europa:**

Massís Central francès – Balcans – Vosges – Caucas – Pirineus  
 Alps – Muntanyes Grampianes – Carpats – la *Meseta* castellana – Alps Escandinaus

**3. Esmenta el nom dels principals rius i unitats del relleu de l'Estat espanyol:**

– Rius: .....

.....

– Unitats del relleu: .....

.....

**4. Relaciona cada paisatge de l'Estat espanyol amb la situació geogràfica corresponent:**

atlàntic	Illes Canàries
subtropical	Nord de la Península
continental	Zona central peninsular
mediterrani	Costa Est i Sud, Balears

**5. Digues si les afirmacions següents són vertaderes (V) o falses (F):**

- La franja mediterrània peninsular és poc poblada.
- Les cases del nord de l'Estat tenen finestres petites.
- A la costa mediterrània hi ha molta agricultura d'hivernacle.
- A les Canàries es conserven molts boscos a la vora de la costa.
- El paisatge agrari del nord de l'Estat està constituït per prats.
- A la zona més seca de l'Estat hi predomina la ramaderia extensiva.

Nom: .....

Curs: .....



El relleu de la Península Ibèrica presenta notables inconvenients, tant per l'altitud com per les nombroses serralades: els Pirineus, el Massís Galaic o la Serralada Cantàbrica. No només dificulten les comunicacions, sinó que de vegades les impedeixen. Tot això imposa una sèrie de problemes per accedir als extensos territoris de l'interior peninsular.

A la xarxa principal de carreteres hi ha vint-i-un ports de muntanya que superen els 1200 metres d'altitud i que faciliten el pas per nombroses zones de muntanya. D'altra banda, l'accessibilitat per terra a Europa queda quasi limitada als marges dels Pirineus, que continuen fent de frontera natural.

**1. La geografia física s'ocupa de l'estudi del relleu. Marca l'afirmació correcta sobre la importància de la geografia física en l'estudi de la geografia humana:**

- A La geografia física és la branca més important de la geografia humana.
- B La geografia física i la humana són disciplines independents i sense cap relació.
- C Ara l'entorn físic no té rellevància en les activitats humanes.
- D La geografia física és important per comprendre el desenvolupament de les activitats humanes.

**2. A partir del text que acabem de llegir i del que hem estudiat al tema, explica com és el relleu peninsular i com influeix en les activitats humanes:**

.....

.....

.....

.....

.....

**3. El relleu de l'Estat és accidentat. Si haguéssim de fer un llarg viatge amb cotxe i travessar un port de muntanya, què utilitzaríem:**

- A Un atlas detallat de l'Estat i un globus terraquí.
- B Un mapa topogràfic per situar correctament el port de muntanya.
- C Un mapa temàtic de comunicacions i un Sistema d'Informació Geogràfic (SIG).
- D Un mapa topogràfic i una fotografia aèria per familiaritzar-nos amb el relleu que travessarem.

Nom: .....

Curs: .....



Encara que el concepte de continent es refereixi a una gran extensió continua de terres emergides, hi ha unes quantes excepcions.

Per exemple, Europa, l'Àsia i l'Àfrica formen una sola massa contínua continental. Tot i això, Europa i l'Àsia es divideixen convencionalment en dos continents pels Urals, la mar Càspia i el Caucas.

El cas de l'Àfrica és diferent, perquè només hi ha una estreta franja de terres emergides que l'uneixen a l'Àsia; aquest espai el travessa el canal de Suez, construït el 1869 per comunicar per mar el Mediterrani amb l'oceà Índic.

Oceania és considerat un continent, tot i que no presenta una continuïtat de terres emergides.

**4. Dividim la Terra en continents a fi d'estudiar-la. Contesta les preguntes següents sobre el concepte de continent i la divisió en continents de la Terra:**

Quina és la definició de continent? .....

.....

Europa i Oceania són realment continents? Explica'n el perquè: .....

.....

En quins sis continents es divideix actualment la Terra? .....

.....

**5. Indica a quin continent pertanyen els elements següents del relleu terrestre:**

– Atlas: ..... – Zagros: ..... – Alps del Sud: .....

– Orinoco: ..... – Caucas: ..... – Les Guaianes: .....

– Ganges: ..... – Zambezi: ..... – Sistema Central: .....

**6. Europa és un dels sis continents en què es divideix la Terra. Marca la resposta que identifica correctament les grans unitats del relleu europeu:**

- A Els Urals, els Pirineus i la Gran Plana Europea.
- B Els massissos, les muntanyes velles i la Gran Plana Europea.
- C Els massissos, les muntanyes joves i la Gran Plana Europea.
- D Els massissos, el Sistema Central Europeu i la Gran Plana Europea.

Nom: .....

Curs: .....



Els massai viuen a Kenya, són pastors i practiquen la ramaderia extensiva, tot i que l'aridesa de l'estació seca i l'endarreriment de les pluges poden provocar dificultats en els ramats i causar fams.

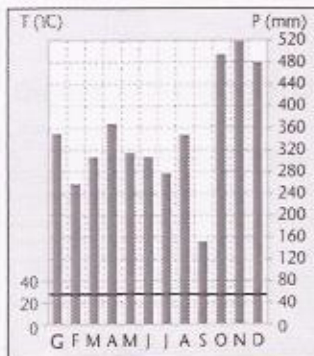
A la regió hi ha pobles que són agricultors. La població que combina l'agricultura amb la ramaderia viu en poblats estables i practica el sistema de rotació de cultius.

Juntament amb aquestes formes d'agricultura i de ramaderia tradicional, també hi trobem plantacions extenses que es dediquen a conreus, com ara el té o el cafè.

**7. Els massai viuen de la ramaderia nòmada tradicional. Marca en quina mena de paisatge desenvolupen aquesta activitat:**

- A Els massai viuen en un paisatge oceànic de clima temperat, amb pastures abundants.
- B Els massai viuen a la sabana, un paisatge amb temperatures elevades i una estació seca.
- C Els massai viuen a la praderia, un paisatge de clima temperat amb planes i pastures abundants.
- D Els massai viuen a la selva, un paisatge de clima extrem caracteritzat per la vegetació abundant.

**8. Observa aquests climogrames, relaciona'ls amb un tipus de paisatge de la Terra i explica com és cada un d'aquests paisatges:**



**Tipus de paisatge:**

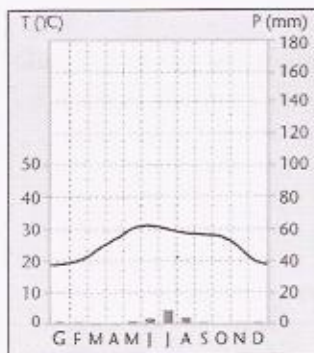
.....

.....

.....

.....

.....



**Tipus de paisatge:**

.....

.....

.....

.....

.....

Nom: ..... Curs: .....

**9. Europa es troba en una zona de clima temperat. Marca quins són els tres grans tipus de paisatges temperats europeus:**

- A Paisatge oceànic, paisatge subtropical i paisatge d'interior.
- B Paisatge atlàntic, paisatge mediterrani i paisatge continental.
- C Paisatge oceànic, paisatge mediterrani d'interior i paisatge de muntanya.
- D Paisatge oceànic, paisatge mediterrani d'interior i paisatge nòrdic europeu.

**10. Completa la taula següent sobre els paisatges de l'Estat espanyol:**

Paisatge	Zones geogràfiques	Clima	Poblament
Atlàntic			
Mediterrani			
D'interior			
D'alta muntanya			
Illes Canàries			



Nom: .....

Curs: .....

**1. Per què les relacions internacionals tendeixen al multilateralisme?**

.....

.....

.....

.....

**2. Explica de quina manera la globalització ha contribuït a transformar el poder i les funcions de l'Estat tradicional:**

.....

.....

.....

.....

.....

.....

**3. Contesta les preguntes següents sobre el govern municipal:**

- Qui són els representants del govern municipal? Quines funcions fan?

.....

.....

- Els municipis, com obtenen els recursos necessaris per exercir les seves funcions?

.....

.....

**4. Indica els Tractats principals que s'han firmat a la Unió Europea i explica en què consisteix cada un:**

.....

.....

.....

.....

Nom: .....

Curs: .....

**1. Explica quines són les funcions de l'Estat:**

.....

.....

.....

.....

**2. Defineix breument els següents termes:**

- Democràcia: .....
- Constitució: .....
- Divisió de poders: .....



**3. Quines institucions exerceixen aquestes funcions en un Estat democràtic?**

- Fer les lleis: .....
- Aplicar les lleis: .....
- Controlar que s'apliquin les lleis i es faci justícia: .....

**4. Diques si les afirmacions següents són verdaderes (V) o falses (F):**

- El Tractat de Maastricht va establir la Unió Econòmica i Monetària.
- Avui la UE és una organització econòmica sense institucions.
- La Unió Europea es va crear per establir un mercat únic i afavorir el comerç.
- L'euro es va convertir en moneda oficial de la UE l'any 1997 amb la signatura del Tractat de Roma.

**5. Què volen dir les sigles ONG? Diques el nom de dues ONG que coneguis i explica quines tasques desenvolupen:**

.....

.....

.....

.....

.....



Nom: .....

Curs: .....



Les democràcies són Estats de dret. Això significa que qui accedeix al poder no pot exercir-lo lliurement, sinó que ha de respectar les lleis de la Constitució.

La Constitució d'un país és el conjunt de lleis fonamentals, establertes mitjançant una votació, que determinen la forma de govern, estableixen els drets i els deures dels ciutadans i també defineixen les institucions i el funcionament de l'Estat.

**1. Explica què és una Constitució i valora'n la importància en els Estats democràtics:**

.....

.....

.....

**2. Les institucions d'una democràcia s'organitzen segons la divisió de poders. Encercla l'enunciat que descriu correctament els tres poders de l'Estat:**

- A El Govern dirigeix l'Estat i la resta d'institucions democràtiques acaten les seves decisions.
- B El poder judicial aplica les lleis, el Govern desenvolupa la tasca executiva i el Parlament legisla.
- C El poder judicial desenvolupa la funció executiva, el Parlament aplica les lleis i el Govern legisla.
- D El poder judicial legisla, el Govern desenvolupa la funció executiva i el Parlament elabora les lleis.

**3. L'Estat espanyol es caracteritza per una organització política que concentra tots els poders de l'Estat en el Govern central i en el Parlament.**

És certa, aquesta afirmació? .....

Per què? .....

.....

**4. La Constitució espanyola organitza el territori de l'Estat en una sèrie d'unitats territorials i administratives. Assenyalà quines són:**

- A Les pedanies, les diputacions i les Autonomies
- B Els municipis, les províncies i les Comunitats Autònomes.
- C Els consells regionals, les diputacions i les Comunitats Autònomes.
- D Els consells comarcals, les diputacions i les Comunitats Autònomes.

Nom: .....

Curs: .....



L'Organització de les Nacions Unides (ONU) està formada per tots els països que accepten els principis establerts en la Carta de les Nacions (1941) i que es comprometen a col·laborar en l'organització i en el finançament. Els països candidats els accepta l'Assemblea General, que va ser el primer òrgan creat per la Carta.

Els representants dels països membres de l'ONU s'apleguen un cop l'any en l'Assemblea General o bé quan hi ha conflictes. L'assemblea pretén organitzar un arbitratge internacional en el qual es tingui en compte l'opinió de tots els països.

**5. L'ONU té com a finalitat facilitar un espai d'acord entre un món molt divers.**

**Marca la frase que millor defineixi la diversitat de països:**

- A En el món hi ha més de 200 països, classificats com a rics, en desenvolupament i pobres.
- B En el món hi ha 200 països, classificats com a industrialitzats, en desenvolupament i emergents.
- C En el món hi ha uns 75 països, dels quals la meitat són pobres, i l'altra meitat, rics.
- D En el món hi ha 100 països classificats com a desenvolupats, pobres i en procés d'industrialització.

**6. A partir de la lectura del text anterior, contesta les preguntes següents sobre les organitzacions supranacionals i els tractats internacionals.**

- Per què són necessaris els tractats i les organitzacions supranacionals? .....
- .....
- A més de l'ONU, quines altres organitzacions supranacionals coneixes? .....
- .....

**7. A més de les organitzacions internacionals, també són importants les ONG.**

**Explica i valora quin és el paper de les ONG en la societat actual.**

.....

.....

.....

.....

.....

Nom: .....

Curs: .....

**8. En els enunciats següents es descriuen diferents ONG. Només una de les descripcions és correcta; encercla-la:**

- A Greenpeace és una ONG dedicada a l'ajuda dels refugiats i immigrants.
- B Intermón és una ONG que promou projectes d'acció humanitària arreu del món.
- C WWF és una ONG d'acció humanitària que ajuda els habitants dels països més pobres.
- D Mans Unides promou la unió entre països per desenvolupar projectes de protecció de l'entorn.



A pesar de la seva diversitat, els països que componen la UE es regeixen per uns mateixos valors fonamentals: la pau, la democràcia, l'Estat de dret i el respecte dels drets humans.

Tots miren de promoure aquests valors, ser pròsper, compartir la prosperitat i exercir una influència col·lectiva en l'escena mundial.

Durant més de mig segle, fins a la crisi econòmica mundial, la UE ha augmentat el nivell de vida dels seus ciutadans. Ha creat un mercat comú sense fronteres interiors i una moneda única, l'euro. La Unió Europea és una gran potència econòmica i el líder mundial en ajuda al desenvolupament.

**9. A partir del text i amb l'ajut del que has estudiat al llibre, explica breument els avantatges econòmics i socials que comporta pertànyer a la UE:**

- Avantatges socials: .....
- .....
- .....
- Avantatges econòmics: .....
- .....
- .....

**10. El Tractat de Roma i el Tractat de Maastricht van ser dos moments clau de la UE.**

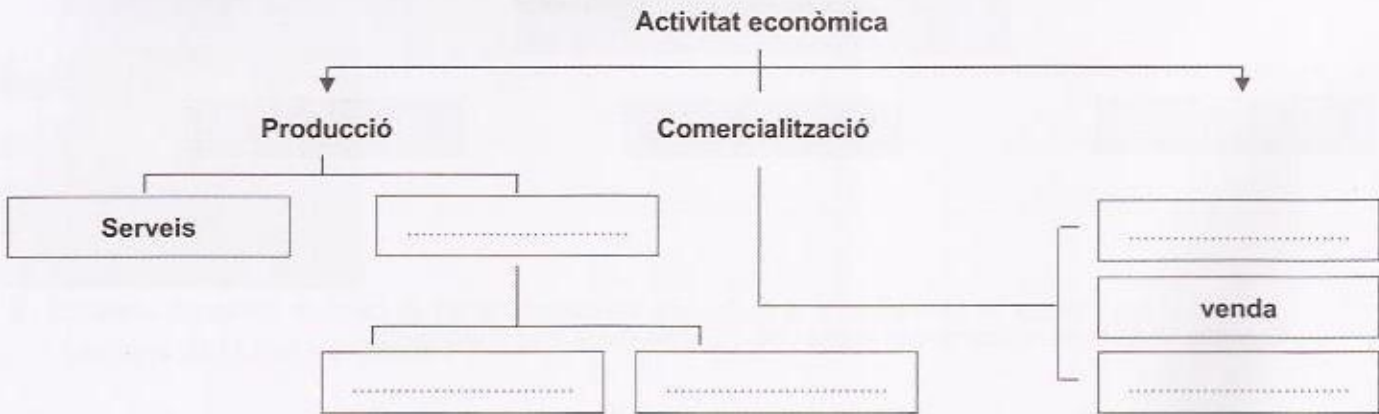
**Assenyalta quina de les frases sobre els tractats esmentats és correcta:**

- A El Tractat de Maastricht es va signar l'any 1957 i va comportar la creació de la CEE.
- B El Tractat de Roma es va signar l'any 1957 i va comportar la constitució de la UE.
- C El Tractat de Maastricht es va signar l'any 1992 i va comportar la creació de la Unió Europea.
- D El Tractat de Roma es va signar l'any 2007 i va configurar l'actual estructura institucional de la UE.

Nom: .....

Curs: .....

**1. Completa aquest mapa conceptual sobre el funcionament de l'activitat econòmica:**



**2. Enumera els factors necessaris per produir els béns i serveis següents:**

- Automòbil: .....
- .....
- Connexió a Internet: .....
- .....

**3. Indica les característiques principals dels sistemes econòmics següents:**

De subsistència	Capitalista	D'economia planificada	Economies alternatives

**4. Per què hi ha crisis econòmiques?**

.....

.....

.....

.....

Nom: .....

Curs: .....

**1. Digues si les afirmacions següents són verdaderes (V) o falses (F):**

- El treball i el capital són necessaris per fabricar qualsevol mena de producte.
- Les empreses són els únics agents econòmics que no estan obligats a pagar impostos.
- En el mercat, el preu dels béns i dels serveis depèn de la quantitat de compradors.
- La publicitat pot fer que es generi més demanda i que augmenti el preu d'un producte.

**2. Explica breument què entens per capitalisme o economia de mercat:**

.....

.....

.....


**3. Contesta les preguntes següents:**

- Què és una crisi econòmica? .....
- .....
- Per què l'atur és un problema tan greu en la nostra societat? .....
- .....

**4. Comenta breument a quina professió o feina t'agradaria dedicar-te en el futur:**

.....

.....

**5. Digues a quina mena d'activitat econòmica correspon cada fotografia i anota, a continuació, si és de producció, comercialització o consum:**

.....

.....

.....

.....

.....

.....

Nom: .....

Curs: .....



En les societats occidentals actuals, treballar té una funció primordial: guanyar diners. Els diners són necessaris per aconseguir béns o serveis, és a dir, per consumir.

Aquesta cadena de treball–diners–consum és fonamental per al manteniment de l'activitat econòmica. Tota l'activitat econòmica té com a finalitat última produir béns o serveis que han de ser consumits per algú. El consum és, consegüentment, una fase o un element essencial de l'activitat econòmica.

Tot i això, un consum excessiu i irreflexiu és perjudicial per a l'activitat econòmica mateixa i per a l'entorn, perquè esgota els recursos que són limitats. Els termes *consumisme* i *societat de consum* fan referència a aquest consum excessiu.

**1. El consum és una de les fases de l'activitat econòmica. Quines són les altres fases?**

**Encercla l'enunciat que les identifica correctament:**

- A Inversió, activitat productiva i consum.
- B Producció, comercialització i consum.
- C Treball, distribució dels productes i consum.
- D Cerca de capital, distribució comercial i consum.

**2. El text aborda el paper del consum en l'activitat econòmica i el problema del consumisme. Diries que ets una persona consumista o un consumidor responsable? Raona i justifica la resposta amb exemples o arguments:**

.....

.....

.....

.....

**3. L'activitat econòmica la fan els agents econòmics. Encercla la frase que descriu correctament aquest agents:**

- A Els agents econòmics són el consumidor, l'inversor i el comerciant.
- B Els agents econòmics són el sector primari, el secundari i el terciari.
- C Els agents econòmics són les persones, les empreses i el sector públic.
- D Els agents econòmics són l'Estat, el productor i els organismes internacionals.



Nom: .....

Curs: .....

4. L'activitat econòmica té com a finalitat produir béns i serveis. Identifica i descriu breument els *factors de producció* necessaris per generar aquests béns i serveis:

.....

.....

.....

.....

.....

.....

.....

.....



En un petit país africà es produeixen un milió de quilos de cereals per l'any. La quantitat de llavors que necessita per assegurar aquesta producció és de cent mil quilos i el consum mínim de cereals que necessita la població és de nou-cents mil quilos.

En un petit país europeu, amb el mateix consum de cereals que l'africà, se'n produeixen dos milions de quilos. Aquest país té un excedent d'un milió de quilos de cereals.

Aquest excedent el ven en el mercat als compradors que ofereixen més bon preu.

Amb els beneficis obtinguts, els propietaris de les explotacions agrícoles compren maquinària agrícola nova, augmenten la producció i incrementen també els beneficis.

5. El text descriu dos països amb sistemes econòmics diferents. Només una d'aquestes frases sobre els sistemes econòmics d'aquests països és correcta. Encercla-la:

- A El país africà té una economia capitalista basada en la propietat privada.
- B El país africà té una economia planificada perquè només produeix el que necessita.
- C El país europeu té una economia capitalista basada en la llei de l'oferta i la demanda.
- D El país europeu té una economia de subsistència que assegura l'alimentació de la població.

Nom: .....

Curs: .....

**6. Contesta les següents preguntes sobre el funcionament del sistema capitalista, també anomenat economia de mercat:**

- Quan acostuma a pujar el preu dels productes? .....
- .....
- Què ha de passar perquè baixi el preu dels productes? .....
- .....
- Quin efecte té la publicitat sobre el preu dels productes? Justifica la resposta. ....
- .....
- .....
- .....

**7. Llegeix aquestes frases sobre els sectors econòmics i escriu Verdader (V) o Fals (F) segons que correspongui. A continuació, corregeix les afirmacions falses:**

- El sector terciari engloba moltes activitats que no produeixen un bé material.
- El sector secundari s'ocupa de transformar matèries primeres en productes elaborats.
- La construcció, la mineria i l'obtenció d'energia són activitats del sector terciari.
- El sector primari comprèn activitats destinades a obtenir aliments i matèries primeres.
- El sector quaternari es centra en activitats que necessiten poca preparació, com el servei domèstic.

.....

.....

.....

.....

**8. L'economia de mercat pateix crisis econòmiques. Encercla quina de les frases sobre les causes de les crisis econòmiques és correcta:**

- A Les causes de les crisis són desconegudes i es produeixen de forma aleatòria o capriciosa.
- B L'especulació sobre els preus dels béns i serveis és la principal causa de les crisis.
- C Les crisis es produeixen de forma cíclica quan el consumidor no necessita comprar res més.
- D Les crisis es produeixen a causa de limitacions del capitalisme per produir béns i serveis.

Nom: .....

Curs: .....



La Unió Europea és la primera potència comercial del planeta. La Unió manté relacions comercials amb tots els països del món, però sobretot amb els més desenvolupats, principalment els Estats Units i el Japó.

Aquest gran moment de l'activitat comercial no hauria estat possible si no hi hagués una xarxa de transports completa i variada. A la Unió Europea, podem trobar-hi alguns dels principals aeroports i ports del món.

Les telecomunicacions i els transports han estat elements clau en la unificació dels membres de la UE i en el seu desenvolupament econòmic.

**9. A partir de la lectura del text i del que has estudiat al tema, contesta aquestes preguntes sobre l'economia de la UE:**

- Quin és el sector econòmic més important de la UE? Explica'n el perquè: .....
- .....
- .....
- Quines activitats del sector terciari s'esmenten al text? .....
- .....
- Quina altra activitat del sector terciari, que no surt al text, és molt important a la UE? .....
- .....

**10. L'economia de la UE s'enfronta a grans reptes. Encercla la frase en la qual s'identifiquen correctament reptes econòmics de la UE:**

- A Potenciar el paper del sector primari en l'economia i limitar el desenvolupament del terciari.
- B Implantar duanes per evitar l'arribada de productes de països no membres de la UE.
- C Millorar la xarxa de transports i potenciar la innovació, la tecnologia i la formació professional.
- D Reduir costos de producció limitant el desenvolupament tecnològic per competir amb altres països.

Nom: .....

Curs: .....

**1. Explica com influeixen el clima, el relleu i el sòl en el desenvolupament de l'agricultura:**

.....

.....

.....

.....

.....

.....

**2. Defineix els termes següents sobre paisatges agraris:**

- Conreu de secà: .....
- Conreu de regadiu: .....
- *Openfield*: .....
- *Bocage*: .....
- Agricultura intensiva: .....
- Agricultura extensiva: .....

**3. Descriu breument els tipus d'agricultura de subsistència que es practiquen al món i indica la localització geogràfica de cadascun:**

- Agricultura irrigada de l'arròs: .....
- Agricultura extensiva de secà: .....
- Agricultura itinerant per cremació: .....

Nom: .....

Curs: .....

**1. Què és el sector primari i quines activitats el componen?**

.....

.....

.....

**2. Amb quin tipus de paisatge agrari de l'Estat espanyol relacionaries la foto? Per què?**

.....

.....

.....

.....

.....

**3. Digues si les afirmacions següents són vertaderes (V) o falses (F):**

- L'agricultura de subsistència produeix aliments per a l'autoconsum.
- L'agricultura és l'activitat que genera més ingressos i feina a l'Estat.
- L'agricultura de mercat es caracteritza per l'elevat grau de mecanització.
- El desenvolupament agrícola d'una regió depèn únicament del clima, el relleu i el tipus de sòl.

**4. Enumera les característiques principals de la ramaderia intensiva i extensiva:**

- Ramaderia intensiva: .....
- .....
- Ramaderia extensiva: .....
- .....

**5. Explica els tipus de pesca que coneguis:**

.....

.....

.....

.....

.....



Nom: .....

Curs: .....



Al final del segle XVIII hi ha haver al Regne Unit la revolució agrícola. L'agricultura va canviar tant, amb l'ús d'adobs, la mecanització de les feines agrícoles, etc., que va augmentar la producció agrícola, va millorar l'alimentació de la població i es van establir les bases de l'actual agricultura de mercat.

Els canvis que es van produir al Regne Unit es van estendre a tota l'Europa Occidental i a països d'altres continents, com ara els Estats Units. Amb tot i això, molts altres països de l'Àfrica, de l'Àsia o de l'Amèrica Llatina van quedar al marge d'aquestes transformacions i encara avui continuen fent servir sistemes molt tradicionals per treballar la terra.

**1. Les millores tècniques afavoriren l'aparició de l'agricultura de mercat. Quins factors més determinen el desenvolupament de l'agricultura? Marca la resposta correcta:**

- A Mitjans tècnics, clima, relleu i tipus de sòl en què es conrea.
- B Mitjans tècnics, condicions naturals, augment de la població i polítiques agràries.
- C Mitjans tècnics, autoconsum de les collites, condicions naturals i polítiques agràries.
- D Mitjans tècnics, capacitat d'esforç del pagès, condicions naturals i polítiques agràries.

**2. En el món actual, l'agricultura és una activitat que amb prou feines té rellevància econòmica ni social.**

És certa, l'afirmació? .....

Per què? .....

.....

**3. A partir de la lectura del text i del que has estudiat al llibre, descriu amb detall les característiques de l'agricultura de mercat i de subsistència:**

– Agricultura de mercat: .....

.....

.....

– Agricultura de subsistència: .....


.....

.....

Nom: .....

Curs: .....

4. Acoloreix les zones en què predomina l'agricultura de mercat diferentment de les zones en què es practica l'agricultura de subsistència:



Alejandro Jiménez Bellido, el majoral, és l'únic ramader transhumant que queda a la província de Valladolid.

L'Alejandro té 63 anys, i d'ençà que en tenia nou que condueix les ovelles de la seva família des de Carpio, un poble situat a 62 kilòmetres de la capital de província, fins a les pastures de zones menys fredes, situades sobretot a Extremadura.

La pastura ha estat sempre una activitat familiar. El seu avi va ser transhumant i el seu pare i els seus oncles, també.

5. El text ens explica la vida d'un pastor avui dia. Assenyala la frase que descriu més bé el tipus de ramaderia a què es dedica l'Alejandro:

- A Ramaderia tradicional basada en la pastura nòmada.
- B Ramaderia intensiva per produir grans quantitats de llana.
- C Ramaderia establuda en grans extensions de terra de manera itinerant.
- D Ramaderia extensiva com la de la Pampa argentina i l'oest dels EUA.

Nom: .....

Curs: .....

**6. A més de l'agricultura i la ramaderia, el sector primari inclou d'altres activitats com la pesca o la silvicultura. Encercla la definició correcta de silvicultura:**

- A Cultiu de peixos i plantes marines per comercialitzar-les.
- B Conreu dels boscos per explotar-los de forma sostenible.
- C Conreu de flors de forma controlada i sostenible per comercialitzar-les.
- D Tala indiscriminada de les zones boscoses per comercialitzar-ne la fusta.

**7. Compara les característiques de la pesca tradicional i de la pesca industrial. A continuació, enumera les principals zones pesqueres del món.**

.....

.....

.....

.....

.....



Les deveses són característiques de l'oest i del sud-oest de la Península Ibèrica. Formen paisatges acotats per pastures amb arbrats d'alzines i d'alzines sureres. Allà on el terreny ho permet, entre els arbres s'hi conreen cereals per a farratges.

A les deveses es cria bestiar bovi i ovi, i porcs, dels quals s'obtenen pernills i embotits de gran qualitat.

El bestiar que no va a l'escorxador abans de l'estiu aprofita els rostolls i les aglans per alimentar-se.

**8. L'Estat té una gran diversitat de paisatges agraris. Encercla quin d'aquests paisatges es correspon amb la devesa descrita en el text:**

- A Paisatge agrari d'interior.
- B Paisatge agrari de muntanya.
- C Paisatge agrari mediterrani.
- D Paisatge agrari oceànic o atlàntic.



Nom: .....

Curs: .....

9. Identifica el tipus de paisatge agrari de l'Estat espanyol que correspon a cada fotografia i descriu-ne breument les característiques i les activitats agràries:



a) .....

.....

.....

.....

b) .....

.....

.....

.....

10. L'Estat disposa de diferents tipus d'explotacions agràries que caracteritzen els seus paisatges rurals. Encercla la frase correcta sobre les explotacions agràries:

- A Els minifundis es coneixen amb el terme anglès *openfield*; n'hi ha molts a Andalusia.
- B Els latifundis eren abundants en el passat, però ara pràcticament han desaparegut.
- C Els minifundis són explotacions de menys de 10 hectàrees, abundants en el nord peninsular.
- D Els latifundis es coneixen amb el terme anglès *bocage* i predominen a Andalusia i a les Canàries.

Nom: .....

Curs: .....


### 1. Escribe cinc exemples de cada grup de matèries primeres:

- Matèries primeres d'origen animal: .....
- .....
- Matèries primeres d'origen vegetal: .....
- .....
- Matèries primeres d'origen mineral: .....
- .....

### 2. Completa les afirmacions amb les paraules correctes:

- Les fonts d'energia ..... són les que per naturalesa són pràcticament ....., com ara: .....
- Les fonts d'energia ..... són les que es troben en quantitats limitades i poden arribar a ....., com ara: .....
- Les fonts d'energia ..... són les més utilitzades, com ara: ..... les fonts d'energia ..... s'utilitzen menys perquè estan en fase de ....., com ara: .....

### 3. Escribe als quadres l'energia renovable que surt a cada imatge:




Nom: .....

Curs: .....

**1. Què és una matèria primera? Quina importància té en la producció industrial?**

.....  
.....  
.....  
.....

**2. Indica l'origen de les matèries primeres representades a cada fotografia:**




.....

**3. Quina et sembla que actualment és la font d'energia més important al món?  
Justifica la resposta:**

.....  
.....

**4. Completa l'esquema sobre les fonts d'energia:**



**5. Quins problemes genera l'ús de l'energia nuclear?**

.....  
.....  
.....

Nom: .....

Curs: .....



En la societat avançada en què vivim estem acostumats a utilitzar una gran quantitat de productes sense adonar-nos, molts cops, que provenen de la mineria.

Els maons i el ciment de casa nostra, els vidres de les finestres, les rajoles, etc., tots estan fabricats íntegrament amb productes minerals. N'hi ha molts més: també la pintura, el paper, el cautxú, productes farmacèutics i alimentaris, components electrònics i un llarg etcètera incorporen en més o menys mesura substàncies minerals.

**1. En l'actualitat els minerals són part essencial de la nostra economia. Encercla la frase que identifica correctament els jaciments dels quals s'obtenen:**

- A Mines subterrànies, pedreres i dessaladores.
- B Mines subterrànies i mines a cel obert, com les pedreres i les graveres.
- C Mines subterrànies i mines a cel obert, com els rocams i els dipòsits d'àrids.
- D Mines subterrànies i mines a cel obert, com les pedreres i els jaciments de roques industrials.

**2. A més de minerals, a la natura també hi ha d'altres menes de matèries primeres.**

**Classifica les següents en la taula:**

gas natural, hematites, carbó, seda, urani, pesca, plata, cautxú, cànem, pells, fusta, bauxita, platí, marbre, cotó, lli, pissarra, sal, llana, sofre


D'origen mineral	D'origen vegetal	D'origen animal

**3. En la mineria hi ha productes minerals metàl·lics i també de no metàl·lics. Encercla la frase correcta:**

- A El sofre, l'hematites, la bauxita i la mica són minerals no metàl·lics.
- B El sofre, el carbó i la bauxita són minerals usats com a font d'energia.
- C L'hematites, el zinc i l'estany són minerals metàl·lics usats en la siderúrgia i la metal·lúrgia.
- D El granit, la bauxita, el coure i l'argila són minerals no metàl·lics usats en la construcció.

Nom: .....

Curs: .....



En el passat hi ha haver plans per construir a l'Estat espanyol fins a 39 centrals nuclears, però els factors polítics i econòmics van frenar aquesta expansió. A pesar que l'any 1984 el Govern de l'època va implantar una moratòria nuclear, a l'Estat finalment se'n van arribar a construir deu reactors.

D'aquests deu reactors nuclears, actualment n'hi ha vuit en funcionament, situats en sis emplaçaments (tant a Ascó com a Almaraz hi ha dues centrals nuclears).

La central nuclear de Vandellòs I, després de patir un accident greu l'any 1989, va tancar definitivament l'any 1990. D'altra banda, la central nuclear de Zorita va ser clausurada l'abril del 2006 a causa, també, de problemes tècnics i de seguretat.

**4. Encercla la frase que descriu correctament l'energia nuclear:**

- A L'energia nuclear és una font d'energia tradicional i renovable.
- B L'energia nuclear és una font d'energia alternativa i no renovable.
- C L'energia nuclear és una font d'energia tradicional i no renovable.
- D L'energia nuclear és una font d'energia experimental i no renovable.

**5. Digues a quines fonts d'energia tradicionals es refereix cada afirmació:**

Es tracta del producte més important en el comerç mundial: .....

Per aprofitar-la s'han de construir grans pantans: .....

Avui dia es fa servir principalment per produir energia tèrmica: .....

El seu consum ha crescut molt perquè és menys contaminant que altres fonts: .....

**6. Identifica la frase que descriu com es produeix l'energia nuclear:**

- A L'energia nuclear s'obté fent explotar de forma controlada nitrogen i cadmi.
- B L'energia nuclear s'obté ajuntant àtoms d'urani amb àtoms de plutoni.
- C L'energia nuclear s'obté mitjançant la fissió dels àtoms de l'urani o del plutoni.
- D L'energia nuclear s'obté escalfant urani, igual que es fa en una central tèrmica amb el carbó.

Nom: .....

Curs: .....

**7. Explica, a partir del text i del que has estudiat en el llibre, els avantatges i els inconvenients de l'energia nuclear:**

.....

.....





.....

.....

.....

.....

**8. Identifica el tipus d'energia alternativa que correspon a cada imatge. En acabar, descriu les principals característiques de cada tipus d'energia:**



a) .....

.....

.....

b) .....

.....

.....

c) .....

.....

.....

d) .....

.....

.....

Nom: .....

Curs: .....



L'especulació immobiliària ha presentat maneres molt diverses; una de les més generalitzades és la següent:

Una persona demana un préstec al banc per tal de comprar sobre plànol el dret de propietat d'un habitatge. Aquest primer pagament en representa una quantitat petita. Quan l'habitatge està acabat, el propietari el ven a un tercer per un preu que ha pujat un 20 %. Per tant, en la inversió obté uns guanys ben quantiosos.

A hores d'ara, es calcula que a l'Estat espanyol hi ha aproximadament 1,3 milions d'habitatges nous a la venda.

**9. Encercla la frase que descriu correctament la situació actual del sector de la construcció a l'Estat espanyol:**

- A La construcció té dificultats a causa de la crisi financera del 2008.
- B La construcció no ofereix una quantitat suficient d'habitatges per a la població.
- C La construcció viu un moment d'apogeu amb una gran demanda i oferta d'habitatges.
- D La construcció està en crisi per falta de sòl i dels recursos tècnics i humans necessaris.

**10. Explica en què consisteix una bombolla immobiliària i com es va produir l'esclat de la bombolla immobiliària a l'estat espanyol:**

.....

.....

.....

.....

.....

.....

.....

.....

.....

.....

Nom: .....

Curs: .....

**1. Tria un producte industrial i enumera els elements necessaris per fabricar-lo:**

.....

.....

.....

.....

**2. Completa la taula següent amb tres característiques de cada una de les Revolucions Industrials:**

	Cronologia	Característiques del període
1a Revolució Industrial		
2a Revolució Industrial		
3a Revolució Industrial		

**3. Contesta les preguntes següents sobre la localització i la deslocalització industrial:**

- Quins eren els factors tradicionals de localització? .....
- .....
- .....
- En què consisteix la concentració horitzontal d'empreses? I la vertical? .....
- .....
- .....
- .....
- Quins són els criteris actuals de localització industrial? Quines repercussions comporten? .....
- .....
- .....
- .....



Nom: .....

Curs: .....

**1. Marca amb una X l'enunciat que defineixi correctament què és la indústria:**

- Activitats que tenen com a finalitat última proveir de serveis la població.
- Procés de fabricació de matèries primeres a partir de l'ús massiu de maquinària.
- Conjunt de processos necessaris per transformar matèries primeres en productes elaborats.
- Activitats centrades en l'explotació dels recursos naturals i el seu aprofitament humà.

**2. Escriu l'element del procés industrial que correspon a cada imatge:**

treball – tecnologia – organització de l'empresa – obtenció de matèries primeres



.....

.....

.....

.....

**3. Quins diries que són els sectors o les activitats industrials més importants a l'Estat espanyol? I les zones amb més concentració industrial?**

.....

.....

.....

**4. Esmenta un parell d'exemples de productes que es fabriquen en aquests tipus d'indústries:**

Indústries de béns de producció

Indústries de béns d'ús de consum

.....

.....

.....

.....

**5. Has sentit a parlar mai de la deslocalització industrial? Explica breument en què consisteix:**

.....

.....

.....

Nom: .....

Curs: .....



Les tecnologies de la informació i de la comunicació (TIC) són un element fonamental de la societat del coneixement i un ingredient important de les activitats de recerca i desenvolupament (R+D).

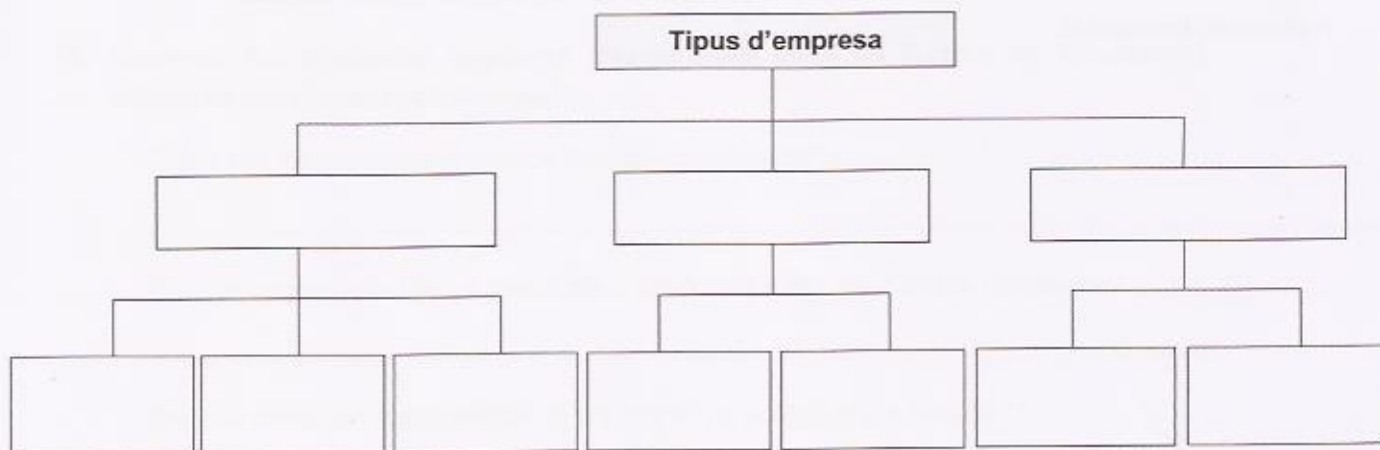
És simptomàtic que els Estats amb una productivitat creixent siguin aquells en què s'estén cada cop més l'ús i la difusió de les TIC.

La importància de les TIC prové d'un tractament millor de la informació i de la reducció dels costos de coordinació. Es tracta principalment d'una millora de l'organització de la producció, de la distribució i de la gestió dels inventaris.

**1. La tecnologia és un element clau en la indústria actual. Quins altres elements intervenen en el procés industrial? Encercla la resposta correcta:**

- A Elaboració del producte semielaborat, capital, energia i marc legislatiu.
- B Capital, matèries primeres, treball, fonts d'energia i administracions públiques.
- C Matèries primeres, fonts d'energia, treball, capital i organització de l'empresa.
- D Matèries primeres, fonts d'energia, sous, fonts de finançament i marc legislatiu.

**2. Completa aquest esquema sobre la classificació de l'empresa en funció de les dimensions, l'organització o la procedència del capital:**



**3. La indústria només fabrica béns d'ús i consum destinats al consumidor final.**

És certa, aquesta afirmació? .....

Per què? .....

.....

Nom: .....

Curs: .....



L'any 1881 l'enginyer nord-americà F. W. Taylor va demostrar que l'eficiència en el treball podia millorar si s'estalviava temps.

Per aconseguir-ho, va simplificar les operacions per reduir-les al temps mínim possible. El seu objectiu era augmentar la productivitat mitjançant la especialització del treball, i així abaratir costos de producció i preus.

El taylorisme va portar al fordisme, un sistema creat per Henry Ford que combinava la producció en sèrie (taylorisme) amb els incentius salarials als treballadors. Es va aplicar per primera vegada en la fabricació del model Ford T.

**4. El fordisme va comportar una gran avenç en la producció. Encercla la frase que relacioni correctament el fordisme amb la seva revolució industrial corresponent:**

- A El fordisme es propi de la fase final de la Primera Revolució Industrial.
- B El fordisme es va produir en la Segona Revolució Industrial, al començament del segle XX.
- C El fordisme és fruit del començament de la revolució tècnica de la Primera Revolució Industrial.
- D El fordisme va crear la producció en cadena de muntatge al principi de la Tercera Revolució Industrial.

**5. Descriu de forma detallada les característiques més rellevants de la Tercera Revolució Industrial.**

.....

.....

.....

.....

.....

**6. El desenvolupament de les noves tecnologies durant la Tercera Revolució Industrial ha transformat la indústria. Encercla la resposta correcta:**

- A Les TIC únicament han incidit en el màrqueting, la publicitat i les tècniques de venda.
- B Els avenços tecnològics han afavorit els processos de deslocalització i desconcentració.
- C La tecnologia ha afavorit la instal·lació d'indústries al costat de fonts d'energia i matèries primeres.
- D Els avenços tecnològics únicament han influït sobre els sistemes industrials de producció en cadena.

Nom: .....

Curs: .....



Mango és una empresa de moda i confecció que té la seu a Palau-solità i Plegamans (Barcelona), en la qual hi ha el departament de disseny, de patronatge i de distribució. A la planta de disseny hi treballen 2.000 persones, que fan 200 dissenys per temporada.

La roba que es vol fer servir s'analitza en un laboratori d'Alcoi per detectar-hi qualsevol substància perjudicial per a la salut.

Seguidament, els materials s'envien a la Xina, Turquia i el Marroc per a la confecció. Posteriorment, les peces de roba confeccionades les tornen a la seu central perquè passin un control de qualitat. Finalment, són distribuïdes en una extensa xarxa de botigues arreu del món.

**7. Encercla la frase que descriu millor les característiques de l'empresa de la qual parla el text:**

- A És una empresa petita perquè té menys de 250 treballadors.
- B És una empresa multinacional perquè exporta la producció a més de dos països.
- C És una empresa local perquè concentra els elements productius més importants a Barcelona.
- D És una multinacional que ven arreu del món i ha deslocalitzat la producció a altres països.

**8. Contesta les preguntes següents relacionades amb els factors de localització industrial i deslocalització industrial:**

- Quins són els principals factors de localització industrial? .....
- Per què penses que Mango concentra la producció a la Xina, Turquia i el Marroc? .....
- Per què diries que la seu central és a Europa i no al Marroc o a Turquia? .....
- En què consisteix la deslocalització industrial? Descriu-la amb detall: .....

Nom: .....

Curs: .....

**9. En el text es descriu una gran empresa de l'Estat espanyol. Encercla l'enunciat que descriu millor la situació actual de la indústria estatal:**

- A La indústria estatal està en un procés de gran expansió a causa de l'alta productivitat.
- B La indústria estatal té una productivitat superior a la de la UE, però s'ha de modernitzar més.
- C La indústria estatal té una productivitat inferior a la de la UE i una inversió en R+D insuficient.
- D La indústria estatal està molt desenvolupada i la mitjana de productivitat és superior a la mitjana de la UE.

**10. Descriu breument els tres eixos industrials principals de l'Estat:**

- Eix de la vall de l'Ebre: .....
- .....
- .....
- Eix del Mediterrani: .....
- .....
- .....
- Àrea industrial de Madrid: .....
- .....
- .....