



GENERALITAT
VALENCIANA

Conselleria d'Educació,
Investigació, Cultura i Esport

Prova d'Accès al 1er curs

Ensenyances Professionals



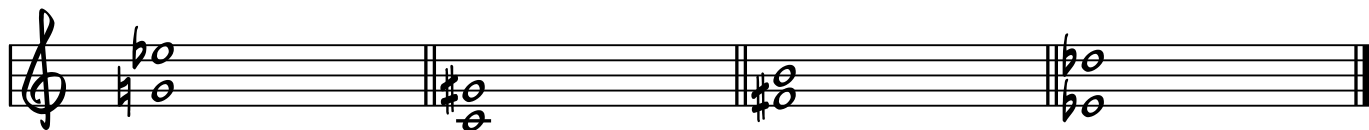
CONSERVATORI
PROFSSIONAL
DE MÚSICA
FRANCESC PEÑARROJA

Nombre: _____ Instrumento: _____

1. Clasificar los intervallos:



2. Clasifica cada intervalo según el tipo de consonancia o disonancia:



3. Indica la Tonalidad Mayor y menor correspondiente a cada armadura:



4. Escribe la armadura correspondiente a cada tonalidad:



do # m

do m

Re b M


re # m

5. Escribe las tonalidades vecinas de si menor


	si menor	

6. Forma las siguientes escalas:


sol menor armónica




si menor Oriental



7. Identifica las siguientes escalas:



8. ¿A qué figura equivale cada grupo irregular?



9. Señala las síncopas (S) y notas a contratiempo (C)



10. Completa el cuadro de compases:

Compás	Figura Unidad de Tiempo	Figura Unidad de Subdivisión	Figura Unidad de Compás
3 2			
6 4			