

CORRECCIÓ ACTIVITATS A REALITZAR ALUMNAT DE PT 3r CICLE

Setmana del 25 al 29 de maig de 2020


1- CORRECCIÓ activitats

1r CICLE

PRIMER DE PRIMÀRIA

Valencià 1r

2.- Llig i contesta a les preguntes.

ACTIVITATS DE COMPRESIÓ LECTORA 4.3	
Nom:	Data:
	
La Laura renta els plats a la pica.	
✍️ Contesta:	
1- Qui és?
2- Què fa la Laura?
3- On renta els plats?
4- És alta la Laura?

Correcció:

- 1. Laura**
- 2. Renta els plats.**
- 3. A la pica.**
- 4. No perquè utilitza un tamboret per arribar bé a la pica.**

Correcció

Llegir:

La caseta

A la muntanya hi ha una caseta. A la caseta viu una nena que es diu Maria. La caseta té dues finestres grogues i una porta taronja. La teulada és vermella i la xemeneia marró. Al jardí hi ha dues flors de color rosa.

Contesta les preguntes.

1. Què hi ha a la muntanya? **Una caseta.**
2. Qui viu a la caseta? **Una nena que es diu Maria.**
3. De quin color és la xemeneia? **És de color marró.**
4. De quin color són les flors? **Són de color rosa.**
5. De quin color és la porta? **La porta és de color taronja.**
6. De quin color són les finestres? **Les finestres són de color groc.**
7. Dibuixa i pinta la caseta de la Maria.

___ marietes

___ llits

___ entrepans

___ camions

___ bates

___ botes

___ fulles

___ ocells

___ escales

___ ulls

___ genolls

___ orelles

___ peus

___ bombers

___ papers

___ diners

___ xemeneies

___ dones

___ homes

___ nenes

___ nens

___ tisores

___ trens

___ paraigües

<http://www.necessitatseducativesespecials.wordpress.com>

Solució:

**les, els //els, els //les, les //les, els //les, els// els, les
//els, els //els, els// les, les // els, les // els, les // els,
els**

Ordena els dies de la setmana i torna'ls a escriure:

dijous dimarts dissabte dilluns diumenge
divendres dimecres

- 1-
- 2-
- 3-
- 4-
- 5-
- 6-
- 7-

El primer dia de la setmana és el

El segon dia de la setmana és el

El tercer dia de la setmana és el

El quart dia de la setmana és el

El cinquè dia de la setmana és el

El sisè dia de la setmana és el

El setè dia de la setmana és el

- 1. dilluns**
- 2. dimarts**
- 3. dimecres**
- 4. dijous**
- 5. divendres**
- 6. dissabte**
- 7. diumenge**

Completa:

A	l' la	primavera estiu tardor hivern	-fa fred -fa calor -plou -neva -cauen les fulles dels arbres -portem bufanda -hi ha moltes flors -anem a la platja -portem banyador
---	----------	--	---

Correcció:

- 1. A la primavera hi ha moltes flors.**
- 2. A la primavera plou.**
- 3. A l'estiu fa calor.**
- 4. A l'estiu anem a la platja.**
- 5. A l'estiu portem banyador.**
- 6. A la tardor cauen les fulles dels arbres.**
- 7. A la tardor plou.**
- 8. A l'hivern fa fred.**
- 9. A l'hivern neva.**
- 10. A l'hivern portem bufanda.**

Comprension lectora

La Navidad de Isidro



Esta Navidad Isidro ha ido a la granja de sus abuelos en Murcia. Allí ha cuidado de todos los animales: recogía los huevos, ayudaba a echar pienso a los cerdos y veía como su abuelo ordeñaba las vacas.

Por las mañanas venía el camión cisterna a recoger la leche para llevarla a la fábrica. La experiencia ha sido genial.

Contesta:

1 ¿Dónde estaba la granja?

2 ¿Qué animales viven en una granja?

3 ¿Qué animal da los huevos?

4 ¿Qué alimentos se pueden fabricar con la leche?

5 ¿De dónde se saca el jamón?

6 ¿Cuándo ha ido Isidro a la granja de sus abuelos?

7 ¿Cómo se lo pasó?

Corrección:

1.- En Murcia.

2. Gallinas, cerdos y vacas.

3. Las gallinas.

4. Queso, yogures, batidos, mantequilla y nata.

5. Del cerdo.

6. En Navidad.

7. Se lo pasó muy bien.

Completa las frases con un verbo.

Ejemplo: Juan **compra** pan en la panadería.

¿Qué verbo falta?



1. Mamá _____ pescado en la pescadería.
2. Martín y Pablo _____ hermanos.
3. El mecánico _____ el coche de papá.
4. Yo _____ zumo de naranja y tostadas.
5. Ponte el abrigo que _____ frío.
6. Después de comer me _____ los dientes.
7. El bebé _____ su biberón.
8. Luisa _____ en la casa de al lado.
9. Los niños _____ en el parque con su pelota.
10. Mi prima _____ ocho años.
11. El abuelo _____ el periódico por las mañanas.
12. La banda _____ muy bien los instrumentos.
13. Los pájaros _____ un nido.
14. María _____ la radio mientras hace los deberes.



aulapt.org
Blog de recursos para la
elaboración de ACIS.

Corrección:

1. compra 2. son 3. reparó 4. desayuno 5. hace 6. cepillo 7. bebe 8. vive 9. juegan 10. tiene 11. lee 12. toca 13. contruyen 14. escucha

Ordena las palabras y forma frases en tu cuaderno.

Corrección:

1. Los caramelos son dulces.
2. Papá riega las macetas.
3. La maceta está vacía.
4. La rosa huele muy bien.
5. El pirata tiene un loro.
6. El anillo es de oro.
7. El pájaro es muy chico.
8. Papá berre su dormitorio.

Matemàtiques 1r

SÈRIES NUMÈRIQUES. Continua i completa la sèrie.

4-8-12-16-20-24-28

27-24-21-18-15-12-9-6-3

10-11-12-13-14-15-16-17-18

21-19-17-15-13-11-9-7

21-19-17-15-13-11-9-7-5

Correccions:

09:00

08:15

02:15

1.- Són les 9.

Són les huit i quart.

Són les 2 i quart.

2. - $47+69= 116$

$96-32= 64$

$79+43= 122$

$138 + 18= 156$

3.- 137

180

4.-

tres-cents dènou= 319 = 300+10+9

tres-cents cinquanta-tres= 353= 300+50+3

tres-cents huitanta-set= 387= 300+80+7

tres-cents trenta-cinc=335 = 300+30+5

tres-cents setanta-huit = 378= 300+70+8

5.-

268-143= 125 125+143= 268

357-124= 233 233+124= 357

6.-Mesura: El coet amida 3 cm d'alçaria . El planeta amida 1,5cm . L'astronauta amida 2 cm d'alçada.

7.- Desena més pròxima

361: 360 449: 450

287: 280 152:150

403: 400 358: 360

8. – restes 182, 163, 25, 74

9.- 29+35= 64

9. Tres-cents vint-i- nou: 330, quatre-cents setanta-tres: 470, dos-cents seixanta-quatre: 260

10. 482- 418= 64 482- 157= 325 418-157= 261

11. 172- 87= 85 Li falten 85 Km.

172 + 69= 241 Demà recorrerà 241 Km:

12. – 25, 63, 9, 9 // 8 , 8, 18, 19 //19, 9, 19,32 // 12, 15, 14, 28

2n DE PRIMÀRIA

Valencià 2n

1.-Llig i contesta les preguntes. La casa de gelat

1. A la Molina.

2. De cotó de sucre.

3.Va llepar les potes d'una taula fins que les potes li van caure de sobre.

4.-En una butaca de gelat.

5. Perquè els metges ho van prohibir.

Paraules amb majúscula.

1.-Maria , Carles, Mireia

2.-Pipa, Mix; Rita; Croque

3.- Inventa una història.

Castellà-2n

1.- Lectura y comprensión lectora. Mi perro

1.-

- Mi perro tiene el cuello blanco y es negro.
- En el jardín de mi casa.
- Cuando se acerca alguien que no conoce.
- 4. Le gustan los huesos y jugar con la pelota.

2.- Tiene una caseta en el jardín.

3.- Verdadero. Falso. Falso

4. jardín. jugar

HISTORIA DEL GRANJERO CHINO.

Chino- caballo- vecinos – lesión – malo –salvajes – felicitaron – pierna – granjero – soldados- ejército- lesión - verdad

1.

- Que empiece por d : dominó, dado, dedo, dinosaurio
- Que empiece por z: zapato, zoquete, zurrón , zorro
- Que empiece por vocal: araña, elefante, isla, ola
- Que empiece por consonante: café, dedo, goma, chicle

2. Cebolla - cigala -zanahoria

3. Rana, Julia, Pepa, tía, Pepa, Rafa, vivido, Francia

9.

Me gusta jugar al escondite.

En el cielo brillaba el sol.

10. Ro – dri – go // Mar- ga-ri -ta

11. Pañuelo, papa, padre, paraíso,

12.

MATEMÀTIQUES 2n

1. Completa.

Número	C	D	U	Lectura
539	5	3	9	cinc-cents
670				
708				
499				
				set-cents noranta
				cinc-cents
				sis-cents deu
				quatre-cents u

539 : cinc-cents trenta-nou

670 : sis-cents setanta

708 : set-cents huit

790

500

610

401

3. Continua la sèrie.

- 182, 184, 186 , 188, 190, 192
- 716, 714, 716, 718, 720, 722

4. Col·loca els signes: major que, menor que i igual entre els següents nombres.

> major que > menor que = igual que

351 ___<___ 353 400 ___>___ 100

198 ___<___ 206 141 ___<___ 411

5. Escripura de nombres.

a) **Escriu en lletra** el nom d'estos nombres .

123: **cent vint-i-tres**

75 : **setanta-cinc**

340 : tres-cents quaranta

706: set-cents

915: nou-cents quinze

b) Escriu en xifres estos nombres.

Vuitanta-tres : 83

Cinc-cents dènou : 519

Tres-cents: 300

Cent dos: 102

Nou-cent noranta-nou: 999

6. Ordena de menor a major els següents nombres

94 - 173 - 940 - 73 - 409

73 - 94 - 173 - 409 - 940

OPERACIONS

7. Realitza les següents sumes.

$$\begin{array}{r} 346 \\ + 24 \\ \hline 237 \\ \hline 607 \end{array}$$

$$\begin{array}{r} 532 \\ + 149 \\ \hline 53 \\ \hline 7 \\ \hline \end{array}$$

741

8. Realitza les restes.

$$\begin{array}{r} 354 \\ - 127 \\ \hline 227 \end{array}$$

$$\begin{array}{r} 815 \\ - 271 \\ \hline 544 \end{array}$$

$$\begin{array}{r} 400 \\ - 12 \\ \hline 388 \end{array}$$

9. Aquestes sumes i restes horitzontals, has de passar-les a verticals i opera.

$$354 + 89 + 6 = 449$$

$$28 + 33 + 549 = 610$$

$952 - 486 = 466$

$305 - 26 = 279$

10. Nombre parell o imparell. Rodeja de roig els nombres parells i de blau els imparells.

7 - 14 - 26 - 33 - 46 - 48 - 51 - 62 - 73 - 75 - 81 - 90

11. Calcula mentalment les següents sumes:

$4 + 7 = 11$

$3 + 4 = 7$

$7 + 7 = 14$

$20 + 30 = 50$

$4 + 7 + 6 = 17$

12. Doble i meitat.

• El doble de 3 és _____.

• El doble de 5 és _____.

• El doble de 6 és _____.

• El doble de 7 és _____.

• El doble de 8 és _____.

• El doble de 9 és _____.

6 - 10 - 12 - 14 - 16 - 18

• La meitat de 10 és _____.

• La meitat de 12 és _____.

• La meitat de 14 és _____.

• La meitat de 16 és _____.

• La meitat de 18 és _____.

• La meitat de 20 és _____.

5 - 6 - 7 - 8 - 10

13. Multiplicacions per una xifra fins a la taula del 5

$2 \times 3 = 6$

$2 \times 4 = 8$

$2 \times 9 = 18$

$4 \times 4 = 16$

$4 \times 3 = 12$ $4 \times 7 = 28$ $5 \times 6 = 30$ $3 \times 5 = 15$

14. Escriu la centena més pròxima als següents nombres.

Exemple: Aproximar a 125 seria 100 Aproximar a 360 seria 400

$213 : 200$ $804 : 800$ $578 : 600$ $392 : 400$

PROBLEMES

15. Resol:

a) Sílvia té 7 llapis. Dóna alguns a un company i li'n queden 5 . Quants llapis va donar al seu company?

$7 - 5 = 2$

Solució: Va donar al seu company 2 llapis.

b) Pere té 52 globus, dóna alguns a un amic i li'n queden 48. Quants globus li va donar al seu amic?

$52 - 48 = 4$

Solució: Li va donar al seu amic 4 globus.

16. Resol:

a) Juan té 8. Quants més en necessita per a tindre'n 11?

$11 - 8 = 3$

Necessita 3 més.

b) Elena té 65 cromos. Quants en necessita per a tindre'n 92?

$92 - 65 = 27$

Necessita 27 més

GEOMETRIA

17. Dibuixa davall de cada nom:

un quadrat, un triangle, un rectangle, un rombe i un cercle .

MESURES

Els Diners. Monedes: 1 Euro, 50, 20, 10 i 5 cèntims

17. Encercla les monedes que utilitzaries per a comprar estos juguets.



50 cènt + 10 cènt + 2 cènt = 62 cènt.
1 euro = 50 cènt. + 20 cènt + 20 cènt + 10 cènt
2 euros i 23 cent = 2 euros + 20 cènt + 3 cènt

17. Mesura del temps (hora, minut, segon)

- a) Quants minuts té una hora? **60 minuts**
- b) Quants segons té un minut? **60 segons**

18. Utilització del rellotge (en punt, el quart i la mitja)

Dibuixa les agulles i relaciona els rellotges que marquen la mateixa hora.




Longitud.

19. Quin instrument utilitzaries per a mesurar estes longituds.

- 1- Cinta de 1 metre
- 2- Cinta de 1 metre
- 3- Cinta de 1 metre
- 4- Cinta de 1 metre
- 5- Cinta de 1 metre
- 6- Regle de 15 centímetres
- 7- Regle de 15 centímetres
- 8- Cinta de 1 metre
- 9- Cinta de 1 metre
- 10-

20. Massa.

Escriu cada nom on corresponga.



Pesen més d'1 kg

Pesen menys d'1 kg

Pesa més d'un kilo: xiquet, vaca, tele,
Pesa menys d'un quilo: sobre, ploma, caramel

20. Capacitat

a) Quants gots es poden omplir amb una botella d'1 litre? 4 gots

b) Completa.

Conté més d'1 litre: poal, olla, garrafa,

Conté menys d'un litre: biberó, cullera, got,

Completa.

Amb 2 pitxers s'omplin 8 gots.

Amb 3 gots s'omplin 9 tasses.

Amb 1 pitxer s'omplin 12 tasses

Nom _____ Data _____

En Jaume i la seva germana han comprat a la botiga un jersei i dues jaquetes. Quants diners han hagut de pagar?



1. Comprèn el problema.


Pregunta: _____

Dades: _____

2. Pensa què cal fer.

- una suma
- una resta i una suma
- una multiplicació i una suma

3. Calcula.



Solució: _____

Els organitzadors d'un concert han venut 479 entrades com aquesta. Després de pagar 735 € als músics, quants diners els han quedat?



1. Comprèn el problema.


Pregunta: _____

Dades: _____

2. Pensa què cal fer.

- una suma
- una multiplicació i una resta
- una suma i una resta

3. Calcula.



Solució: _____

Problema 1:

$189 \times 2 = 378$ $378 + 65 = 443$

Solució: Han hagut de pagar 443 euros.

Problema 2 :

$479 \times 6 = 2.874$ $2.874 - 65 = 2.139$

Solució: Els han quedat 2.139 euros.