



ALUMNAT PT – 3R CICLE

Correcció activitats 2n CICLE a realitzar setmana del 21 al 24 d'abril

EL NOM: SINGULAR I PLURAL


 llibre


 llibres

1.- Destria els següents noms en dues columnes:

SINGULAR (una sola cosa)	NOMS	PLURAL (més d'una cosa)
.....	llibre papers vestit sabata nens casa cotxes armaris

2.- Escribe el plural (més d'una cosa) dels noms següents:

got	bolet	cuina
mena	gorra	aire
home	cavall	teulada

3.- Escribe el singular (una sola cosa) dels noms següents:

gelats	lletres	herbes
ous	amics	fulles
gerres	quadres	flors

- Els noms en s..... indiquen una sola cosa.
- Els noms en p..... indiquen dues o més coses.

1. **SINGULAR:** llibre, vestit, sabata, casa
PLURAL: papers, nens, cotxes, armaris
2. **PLURAL:** Gots, bolets, cuines, nenes, gorres, aires, homes, cavalls, teulades
3. **SINGULAR:** Gelat, lletres, herbes, ou, amic, fulles, gerres, quadres, flors
4. **Singular // plural**

Nombre: _____ Fecha: _____

Lee el siguiente texto y luego responde a las preguntas:

El leopardo

Esta especie puede ser encontrada en el este y sur del continente asiático y africano.

Estos miden de 91 a 165 cm de longitud, sumándole su larga cola que mide entre 58 y 110 cm. Su peso oscila entre 30 y 91 kilos para los machos y 23 a 60 kg en el caso de las hembras. Su expectativa de vida es de 20 años.

Los leopardos prefieren cazar de noche y dormir durante el caloroso día sobre vegetaciones, en cuevas de otros animales o en ramas fuertes a lo alto de los árboles. Sus sentidos de la vista y oídos son sin duda, sus mejores herramientas para realizar sus capturas.

Su gran fuerza les permite derribar a otros animales diez veces más pesados que ellos. Poseen también la gran habilidad de saltar hasta setenta metros para alcanzar a sus víctimas.

¿Dónde viven? _____

¿Cuándo cazan? _____

¿Cuánto tiempo pueden vivir? _____

¿Qué velocidad pueden alcanzar? _____

¿Qué más sabes de ellos? _____







1. **En el este y sur del continente asiático y africano.**
2. **De noche.**
3. **Su expectativa de vida es de 20 años.**
4. **Puede correr a una velocidad de 58 Km/h.**

Presente de
indicativo

Nombre: _____

Conjugando los verbos

Completa las frases conjugando los verbos entre paréntesis

1. No _____ ir al cine. (poder, nosotros)
2. ¿Por qué no me _____ la verdad? (decir, tú) 
3. _____ muy despacio porque estoy cansado. (caminar, yo)
4. Mi hermana _____ en un banco. (trabajar, ella) 
5. Mi esposa y yo _____ en Dallas. (vivir, nosotros)
6. Jose y Pablo no _____ miedo de nada. (tener, ellos) 
7. Ahora, _____ cantar en frente de todos. (poder, tú)
8. Mis perros _____ toda la noche. (ladrar, ellos) 
9. El árbol _____ rápidamente con agua. (crecer, el)
10. ¿Por qué _____ las muchachas? (salir, ellas)
11. ¿Por qué siempre _____ cuando escucho esta canción? (llorar, yo) 
12. Marco y yo _____ juntos todos los viernes por la noche. (bailar, nosotros)
13. ¿ _____ todo el día en el parque? (jugar, tú)
14. Hoy no me _____ muy bien. (sentir, yo) 
15. María no _____ hoy sin su abrigo. (salir, ella)
16. Jorge _____ trabajando en un hotel. (seguir, él)

1-podremos 2-dices 3-camino 4-trabaja 5-vivimos 6-tienen 7- puedes 8- ladran
9-crece 10-salen 11- lloro 12-bailamos 13-juegas 14-siento 15- sale 16- sigue

Nom _____ Data _____

• Resol les operacions.

$\begin{array}{r} 275 \\ 3908 \\ + 698 \\ \hline \end{array}$	$\begin{array}{r} 6506 \\ - 2794 \\ \hline \end{array}$	$\begin{array}{r} 8314 \\ - 7006 \\ \hline \end{array}$	$\begin{array}{r} 4765 \\ + 3921 \\ \hline \end{array}$
---	---	---	---

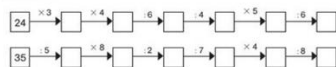
• Fes aquestes multiplicacions.

$\begin{array}{r} 217 \\ \times 4 \\ \hline \end{array}$	$\begin{array}{r} 571 \\ \times 6 \\ \hline \end{array}$	$\begin{array}{r} 209 \\ \times 7 \\ \hline \end{array}$	$\begin{array}{r} 423 \\ \times 3 \\ \hline \end{array}$
$\begin{array}{r} 498 \\ \times 2 \\ \hline \end{array}$	$\begin{array}{r} 234 \\ \times 9 \\ \hline \end{array}$	$\begin{array}{r} 379 \\ \times 8 \\ \hline \end{array}$	$\begin{array}{r} 637 \\ \times 5 \\ \hline \end{array}$

• Fes aquestes divisions.

$45 \overline{) 6}$	$61 \overline{) 7}$	$70 \overline{) 9}$	$47 \overline{) 5}$
$48 \overline{) 6}$	$72 \overline{) 8}$	$49 \overline{) 7}$	$54 \overline{) 9}$

• Completa les sèries.



- 1- 4.881 // 3.712 // 1.308 // 8.686
- 2- 868 - 3.426 - 1.463 - 1.269 - 996 - 2.106 - 3.032 - 3.185
- 3- C: 7 R: 3 - C: 8 R: 5 - C: 7 R: 7 - c: 9 R: 2 - c: 8 r: 0 - c: 9 r: 0 - C: 7 r: 0 - C: 6 r: 0
- 4- 72 - 288 - 48 - 12 - 60 - 10
7 - 56 - 28 - 4 - 16 - 2

Nom _____ Data _____

A l'hotel on són de vacances els meus avis hi ha 73 butles al magatzem i 84 al pati. A cada butla hi ha 8 cadires. Quantes cadires hi ha en total?


1. Comprén el problema.

Pregunta: _____
Dades: _____

2. Pensa què cal fer.

- una suma
- una suma i una multiplicació
- una resta i una multiplicació

3. Calcula.



Solució: _____

En Luc ha comprat 2 cistons d'ous com aquest. Quan els ha posat a la nevera se li han trencat 7 ous. Quants ous li queden a la nevera?




1. Comprén el problema.

Pregunta: _____
Dades: _____

2. Pensa què cal fer.

- una suma i una resta
- una multiplicació i una resta
- una multiplicació

3. Calcula.



Solució: _____

PROBLEMA 1:

Operacions : 73 + 34 = 107 107 x 8 0= 856

Solució: Hi ha 856 cadires

PROBLEMA 2

Operacions : 5 x 6 = 30 30 X 2= 60 60 - 7= 53

Solució: Li queden 53 ous