

Estimadas familias , estimadas alumnas y alumnos de 4º

¡Empezamos una nueva semana!!!

Como ahora ya podemos salir a jugar, pasear y disfrutar del buen tiempo hay que organizarse un poco mejor para poder hacerlo todo.

Acordaros **no estamos de vacaciones**, es muy importante que hagáis las actividades para que os pueda poner buena nota a final de curso.

4 al 8 de mayo				
Lunes	Martes	Miércoles	Jueves	Viernes
Socials	Inglés	Castellano	Valencià	Matemáticas
Matemáticas		Matemáticas	Matemáticas	Castellano
Castellano				Plástica

Acordaros de enviar todos los días las actividades a mi correo (illescastello@gmail.com) para que yo las pueda corregir. Menos el martes que enviaréis las de inglés a Estefanía (sanz_estter@gva.es)

Practicad la lectura en voz alta con el libro de la biblioteca, el libro de la tertulia o con algún cuento de casa.

¡Pilas puestas y a por todas ! ¡Lo estáis haciendo genial!!!!

Ánimo a las familias y un fuerte abrazo de piña para Gabriela, Amparo, Chanel, Dayana, Nayeli, Marwa, Pedro, Jesús, Omar, Sheila, Joaquín, Galilea y Teresa.

Ya sabéis que si necesitáis alguna cosa o no entendéis alguna actividad podéis hablar conmigo a través del correo illescastello@gmail.com o por EL WHATSAPP

¡¡¡APRENDEMOS EN CASA!!!!

SOCIALS

Anem a repassar l'organització de la Comunitat Valenciana

La Comunitat Valenciana és la Comunitat on nosaltres vivim.

La Comunitat Valenciana està dividida en 3 províncies: Castelló, València i Alacant.

Cada província està formada per una ciutat important i molt pobles. Per exemple la província de Castelló està formada per la ciutat de Castelló de la Plana i molts pobles com Benicàssim, Borriol, Almassora.....

Cada Comunitat Autònoma té **una capital** que és la ciutat més gran, la capital de la Comunitat Valenciana és **la ciutat de València** i allí estan totes les institucions que governen la nostra Comunitat.

El president o presidenta de la Comunitat és elegit cada 4 anys per tots els ciutadans i ciutadanes que viuen a la Comunitat. **El president** que tenim ara es diu **Ximo Puig**.

Totes les comunitats tenen un **estatut d'autonomia** que recull les lleis pròpies de cada Comunitat. El nostre estatut d'autonomia va ser aprovat en 1982 i després el van reformar en 2006.

La Comunitat Valenciana té **dues llengües oficials**: el valencià i el castellà.

També té un **bandera** pròpia que és la senyera.



1.-Si pots, mira aquest vídeo per tal de recordar tot el que hem donat sobre la Comunitat Valenciana

<https://www.youtube.com/watch?v=TllmOBqyPbA>

2.- Després de llegir el text i de veure el vídeo, contesta les següents preguntes.

- Quines són les províncies que formen la Comunitat Valenciana?.....
- Escriu el nom de dos pobles de la província de Castelló que no estiguen al text?....
- Recordes el nom d'un poble de la província d'Alacant on va nàixer Joaquín?.....
- A quina ciutat es troben totes les institucions de la nostra Comunitat?... ..
- Per què estan a eixa ciutat?.....
- Les últimes eleccions que es van fer a la Comunitat Valenciana van ser el 28 d'abril de 2019. Quin any toca fer una altra vegada eleccions?.....
- Fes un dibuixet de la nostra senyera.

3.- Els que pugueu feu aquestes activitats on line. Són molt xules.

http://www.infantil.librosvivos.net/archivosCMS/3/3/16/usuarios/103294/9/cono_4EP_ud11_comautonom_val_1/frame_prim.swf <http://serbal.pntic.mec.es/ealg0027/valenciaprov3e.html>

MATEMÁTICAS

1.- Por correo y whatsapp ya tenéis los ejercicios del miércoles 29 corregidos. El trabajo de hoy es mirar lo que os he mandado y revisar los problemas de ese día y ver si los tenéis bien.

2.- **Multiplicaciones para repasar las tablas.** Coloca las operaciones correctamente. Si no te acuerdas de las tablas mira en la agenda.

$$7952 \times 9 =$$

$$79502 \times 95 =$$

Ahora tienes que hacer unas fotos de los ejercicios de Sociales, las Mate corregidas y de las multiplicaciones y enviarlas a mi correo illescastello@gmail.com

CASTELLANO- Tertulia

Esta semana toca leer desde la página 70 hasta la página 73. Tienes hasta el viernes para leerlo. Cuando acabes de leer eliges el párrafo que te ha gustado más, lo copias y explicas porque lo has elegido. Como siempre hacemos en clase. Puedes hacer un dibujo.

Tuesday May 5 : English

Las actividades que os ha preparado Estefanía.

Cuando las tengas hechas les haces una foto y se las envías a Estefania
sanz_estter@gva.es

Miércoles 6 de mayo : Castellano - Matemáticas

CASTELLANO

Hoy os propongo una actividad super especial.



Vosotros ya sabéis que hay personas ancianas que viven todas juntas en unos edificios que se llaman “Residencias de la tercera edad”. Algunas de esas personas están allí porque están enfermas y otras porque ya son tan mayores que no pueden vivir solas o sus hijos o hijas no las pueden cuidar. Por suerte en esas residencias están muy bien cuidadas por todas y todos los que trabajan allí. Como consecuencia del COVID-19 esas personas mayores son más vulnerables y están especialmente triste, porque no pueden reunirse entre ellas ni recibir la visita de sus familiares.

Os propongo mandarles un regalo en forma de cuento, redacción, historieta, podéis explicar lo que estais haciendo vosotros, darles ánimos ..lo que queráis.

Creo que les hará muy felices. Además si ponéis también un dibujo seguro que lo cuelgan en su pared.

Tendréis que hacerlo en boli para que se vea bien, con buena letra y muy aseado. ¡ Cuidado con las faltas!

Yo creo que sería buena idea hacerlo primero en sucio, leerlo a la mamá o al papá en voz alta y cuando quede bien pasarlo a limpio.

¿Os animáis? Seguro que lo hacéis estupendamente

MATEMÁTICAS

Como se que la redacción cuesta un poco para hacerla bien, de Mate hoy sólo pondré dos divisiones.

Colocarlas bien en la cajita como siempre y si no os acordáis de las tablas mirad en la agenda.

$$89754: 9 =$$

$$10647: 7 =$$


¿Alguna división es exacta?

Ahora tienes que hacer una foto de la redacción y otra de las divisiones y enviarlas a mi correo illescastello@gmail.com.

VALENCIÀ

1.- Llig atentament aquesta llegenda.

LA LLEGENDA DEL PA



- Mama, ens han dit en classe que demà ens parlaran del pa i que cadascun ha de comptar alguna cosa d'aquest aliment. Pots ajudar-me? -va preguntar Rocío.

- Si vols, et contaré una llegenda que em narrava la iaia quan jo era xicoteta. Comença així: "Hi havia, fa molts anys, un llenyataire, la seua dona i els seus fills, una xiqueta i un xiquet, que vivien en un bosc. Un dia va haver-hi un gran incendi, els arbres del bosc van començar a cremar-se i van haver d'abandonar la seua casa corre'ns. Després de molt caminar i sense res a menjar, es van parar a descansar a la ribera d'un riu.

Com tenien molta gana, van buscar menjar, però només van trobar dues pomes dalt d'un pomer. La mare les va agafar i es va disposar a repartir-les entre tots.

Encara no havien començat a fer-ho, quan van veure vindre a un ancià.

En acostar-se, van notar que era molt major i estava molt feble a causa de la fam. L'ancià els va demanar si li podien donar alguna coseta per a menjar. El llenyater i la seua dona i li van dir que compartirien entre tots les pomes que tenien.



Quan van acabar de menja, l'ancià es va acomiadar, i abans d'anar-se els va entregar, com a regal, uns grans groguencs. I els va dir:

-Heu de sembrar aquests grans i mai més patireu fam.

El llenyater i la seua família van tornar a sa casa, la van arreglar tota i van plantar al camp el granets que els havia donat l'ancià.

Van brollar de la terra belles espigues grogues plenes de grans. I d'ells van traure blanca farina amb la qual van pastar cruixents pans, i mai més van tindre gana.

La mare de Rocío li va dir:

- T'ha agradat aquesta llegenda.

- Sí, molt mama. Demà la contaré jo a l'escola.

- Doncs llegenda contada, llegenda acabada!

1.- Anem a fer com a les tertúlies. Has d'escollir el paràgraf que més t'ha agradat o que més t'ha cridat l'atenció i el copies.

.....
.....
.....
.....

3.- Per què t'ha agradat o per què has escollit eixe paràgraf?

.....
.....
.....
.....

4. Que penses de l'actuació de la família al donar-li part del poquet menjar que tenien a l'ancià? Està bé o mal? Per què?

.....
.....
.....
.....

5.- Fes un dibuix relacionat amb el paràgraf que has triat.

MATEMÁTICAS

1. - PROBLEMAS

- Esta mañana, en el horno de Francisco han dejado dos cestas con pan. Una cesta tenía 125 barras de pan y la otra 95. Si ha vendido un total de 195 barras. ¿Cuántas le han sobrado?
- Andrés ha recogido un total de 1.400 kilos de manzanas en un campo de manzanos. Un camión se ha llevado 40 cajas con 25kilos cada una. ¿cuántos kilos le quedan?
- Julia necesita 8 bolas para hacer un collar. Si tiene 284 bolas ¿cuántos collares puede hacer? ¿Le sobra alguna bola?

¿Te atreves con una multiplicación de 3 cifras?

Es igual que una de 2 cifras pero con tres filas.

Fijate que siempre hay que dejar un espacio o poner un cero , lo que quieras cada vez que empiezas a multiplicar por la segunda y por la tercera cifra.

$$\begin{array}{r} 4368 \text{ M} \\ \times 579 \text{ m} \\ \hline 39312 \\ 30576 \\ 21840 \\ \hline 2529072 \text{ P} \end{array}$$

2. - OPERACIONES

$$2406 \times 712 =$$

Ahora tienes que hacer una foto de las preguntas de valencià y la envías a mi correo illescastello@gmail.com. Los ejercicios de Mate los corregiras tú el lunes que viene ¿vale?


Si no entiendes alguna cosa me lo dices por correo o por el whatsapp.

CASTELLANO

Acuerdate que mañana tienes que hacer la tertulia de la página 70 a la 73.

MATEMÁTICAS

PON A PRUEBA TUS COMPETENCIAS



Rita está muy contenta, nació el 8 de mayo de 2012 y hoy celebra su cumpleaños.

Para celebrarlo ha invitado a sus amigos Susana y Luis a merendar en su casa.

La madre de Rita fue ayer a un centro comercial y compró una gran pizza que le costó 20€, 2 botellas de fanta de naranja a 4€ cada una, 5 bocadillos que le costaron 25€ en total y una tarta de cumpleaños.

Luego fue a un chino y allí compró vasos, platos de papel, globos y adornos.

Susana le ha regalado unos patines y Luis un estuche grande con colores.

Luis solo puede quedarse media hora, porque sus padres irán a buscarlo.

1.- Observa el dibujo y lee los datos para poder resolver los siguientes problemas

- Calcula cuántos años cumple Rita.....
- Si en el centro comercial la madre de Rita se gastó 84 € ¿Cuánto le costó la tarta?
- Si pagó con dos billetes de 50€ ¿ cuánto dinero le devolvieron?
- ¿Que fracción de pizza se han comido ya?


- ¿Qué fracción de bocadillos queda por comer?
- Escribe la fracción de globos rojos que hay en la fiesta
- ¿A qué hora llegan los padres de Luis?
- Los patines que ha comprado Susana valen 125€ y el estuche de Luis 35€ menos. ¿Cuánto han costado los dos regalos?

CASTELLANO

Toca hacer la tertulia, si todavía no la tienes hecha, de la página 70 a la 73. Cuando acabes de leer eliges el párrafo que te ha gustado más, lo copias y explicas porque lo has elegido. Como siempre hacemos en clase. Puedes hacer un dibujo.

PLÁSTICA

Escribe la invitación que crees que Rita dio a sus amigos. Recuerda poner el lugar y la hora de la fiesta. Te dejo ideas, pero puedes inventar tu propia invitación.



Ahora tienes que hacer unas fotos de las actividades de mate, de la tertulia y de la invitación y enviarlas a mi correo illescastello@gmail.com.

BON CAP DE SETMANA!!!