

Hola de nou famílies. Ara ja sí que amb els passejos dels xiquets i els dels adults ja tenim més temps per a disfrutar de l'aire lliure i disfrutar del temps que està fent. A vore si esta setmana anem progressant i fent-li front a aquest bitxo i ja podem fer més cosetes com anar a vore als familiars i amics.

Esta setmana seguim amb la marxa de sempre, ja sabeu que jo vos oferisc unes orientacions que si podeu els seguïu i sino els adapteu a la vostra situació. Com vos dic totes les setmanes, allò important és que treballen un poc cada dia, que no perden l'hàbit.

Com la setmana passada, les tasques de les assignatures troncales vos les passe directament i per a les especialitats, vos passe l'enllaç per poder accedir.

<https://drive.google.com/open?id=1AWuEWMNYsYalQq8hZMblsp8w3VqLaJ5n>

Espere poder vore-vos prompte a tots, encara que ja sabeu que seguirem amb el calendari escolar acordat, però des de casa. De moment fins setembre ja no tornaran al cole, però com açò va canviant anirem veient.

Amb els millors desitjos per a tots, que sé que esteu bé de salut i que continúe així, m'acomíade una setmana més.

Molts besos i una forta abraçada!!!!



VALENCIA

Unitat 12:

Ortografia, utilitzar m davant de la b “MB”, pàg 185.

Gramàtica, present, passat i futur (verbs), pàg 183.

Epressió escrita, la noticia, pàg 188.

Estes tres pàgines del tema serien els mínims però, si es troben motivats la resta del tema es d'assolimet de comprensió i lectura, podeu fer-lo perfectament.

Recordeu que podeu anar als jocs i activitats interactives del tema.

CASTELLA

Unidad 12:

Ortografía, utilizar m antes de b “MB”, pág. 186

Gramática, el predicado, pág. 189.

Expresión escrita, ficha de un animal, pág. 190

Estas páginas serian los mínimos, pero al igual que en valenciano, el resto del tema se puede trabajar si siguen motivados para reforzar comprensión y lectura.

Podéis ir a las actividades interactivas del tema.

NATURALS

UNITAT 6

En aquest tema coneixerem les màquines i al final del tema podrem construir-ne una si volem. Es un tema molt útil, segur que vos agrada investigar sobre elles, les màquines. Anim i comencem.

Mireu el video de la pàg 92 al vostre llibre digital, després comenceu a llegir la pàg. 94 i a continuació feu els exercicis de les pag 94 i 95. També podeu fer les activitats interactives de la pàg 95 per comprovar si s'ha comprés.

Seguiu en les pàg 96 i 97 per poder aprendre com funcionen les màquines, podeu fer també les activitats interactives de la pàg 97.

SOCIALS

UNITAT 6

Anem a fer una passejada pel temps.

Esta setmana pots anar realitzant les pàgines de la 96 a la 99, tant en matemàtiques com en llengües ja has après el pas del temps, ara cal practicar-ho. Intenta!!

Pots fer les activitats interactives d'aquestes pàgines.

MATEMÀTIQUES

REPÀS DE LA 5 a la 8:

- ✓ Pàg. 119,120,121
- ✓ I també aquestes fitxes de repàs.

1 Analiza el número **90** realizando las siguientes actividades:

- Señala:

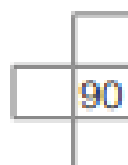
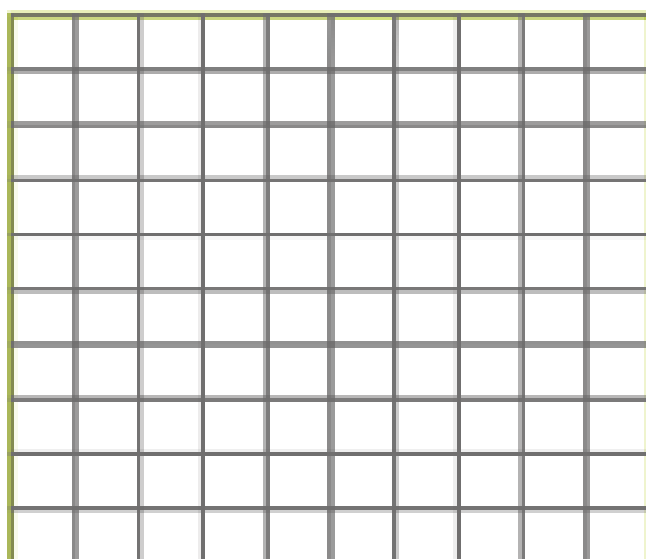
Es un número: Par Impar

- Completa:

La cifra de las decenas es y la de las unidades es .

El número de decenas es y el de unidades es .

- Colorea en la tabla numérica las casillas que corresponden. Después, completa.



El número anterior es . El número posterior es .

La decena anterior es . La decena posterior es .

Su amigo del 100 es .

Nombre y apellidos:

Ficha
1

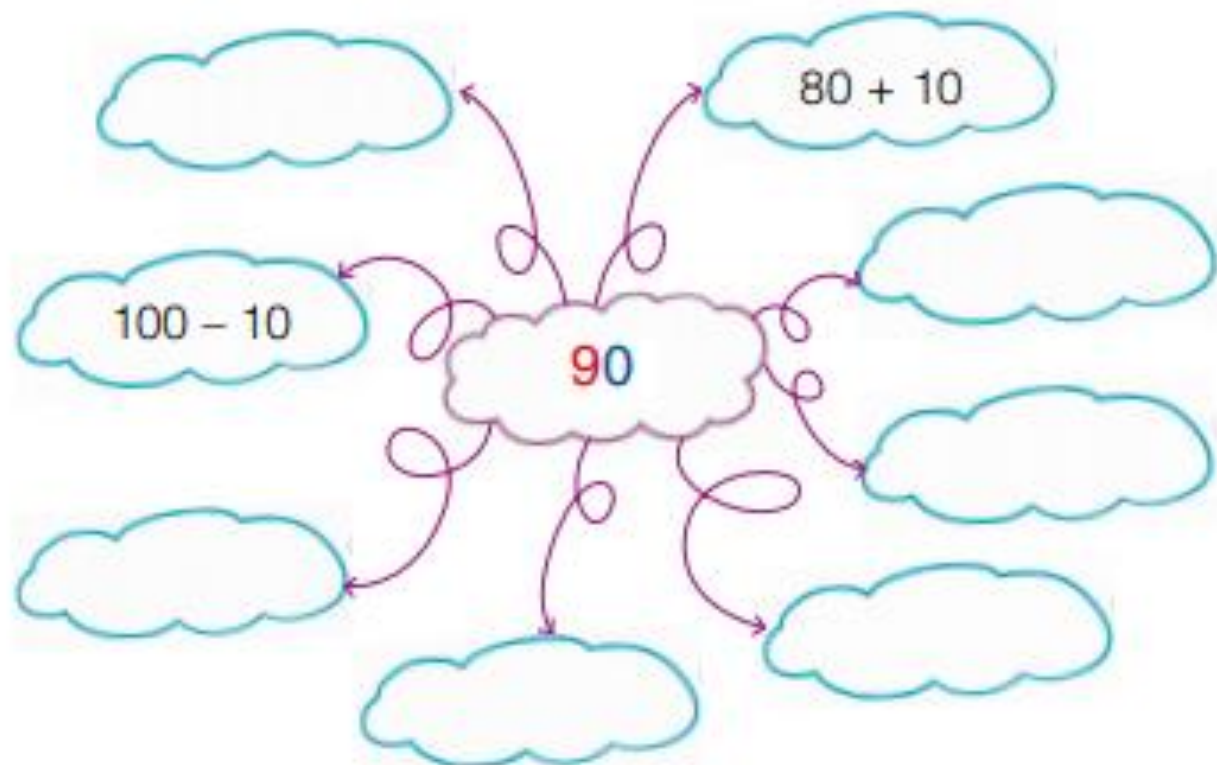
- Representa con \bigcirc |.



- Completa las descomposiciones.




- Representa en forma de distintas sumas y restas.



1 Averigua el doble de estos números resolviendo las operaciones planteadas como sumas de ese mismo número dos veces. Después, busca los resultados en el dibujo y une los puntos en el orden que se indica.

- | | | |
|---------------------------------------|---------------------------------------|---------------------------------------|
| 1 → $5 + 5 =$ <input type="text"/> | 2 → $4 + 4 =$ <input type="text"/> | 3 → $3 + 3 =$ <input type="text"/> |
| 4 → $6 + 6 =$ <input type="text"/> | 5 → $7 + 7 =$ <input type="text"/> | 6 → $8 + 8 =$ <input type="text"/> |
| 7 → $1 + 1 =$ <input type="text"/> | 8 → $9 + 9 =$ <input type="text"/> | 9 → $2 + 2 =$ <input type="text"/> |
| 10 → $10 + 10 =$ <input type="text"/> | 11 → $13 + 13 =$ <input type="text"/> | 12 → $15 + 15 =$ <input type="text"/> |
| 13 → $12 + 12 =$ <input type="text"/> | 14 → $11 + 11 =$ <input type="text"/> | 15 → $14 + 14 =$ <input type="text"/> |



Nombre y apellidos:

- Representa con \bigcirc |.



- Completa las descomposiciones.



- Representa en forma de distintas sumas y restas.

