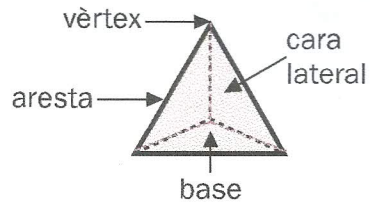


Piràmides: elements i classificació

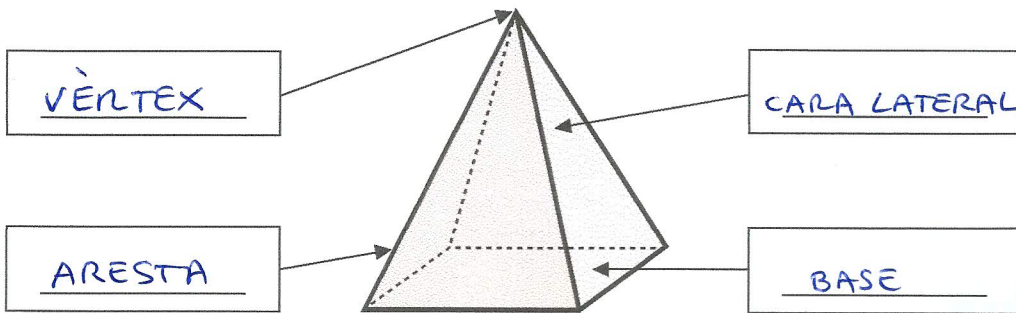
Nom _____ Data _____

Recorda

- Els elements de les piràmides són: **base, cares laterals, vèrtexs i arestes.**
- Les piràmides es classifiquen segons el polígon de la base.



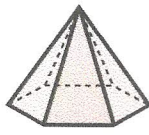
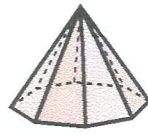


1. Escriu el nom dels elements d'aquesta piràmide. Després, contesta.



- Quantes bases té una piràmide? 1
- Quantes bases té un prisma? 2

2. Completa la taula.

				
Nombre de bases	1	1	1	1
Forma de la base	triangle	pentagon	hexàgon	octògon
Nombre de cares laterals	3	5	6	8
Forma de les cares laterals	triangle	triangle	triangle	triangle
Nombre de vèrtexs	4	6	7	9
Nombre d'arestes	6	10	12	16
Nom	Piràmide triangular	Piràmide pentagonal	Piràmide hexagonal	Piràmide octogonal