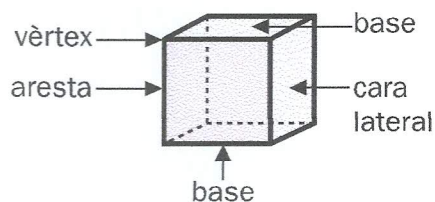


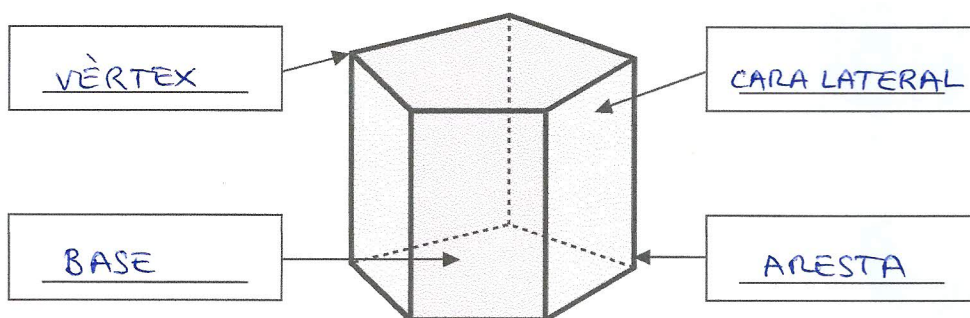
Nom _____ Data _____

Recorda

- Els elements dels prismes són: **bases, cares laterals, vèrtexs i aristes.**
- Els prismes es classifiquen segons el polígon de les bases.



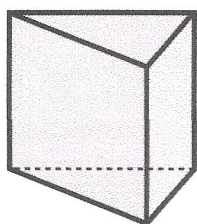
1. Escriu el nom dels elements d'aquest prisma. Després, completa.



- Nombre de cares laterals ▶ 5
- Nombre de vèrtexs ▶ 10
- Nombre d'arestes ▶ 15
- Nombre de bases ▶ 2
- Forma de les bases ▶ PENTÀGONS
- Nom del prisma ▶ PRISMA PENTAGONAL

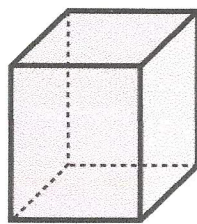
2. Escriu el nom d'aquests prismes.

Recorda que el nom dels prismes depèn del polígon de les seves bases.



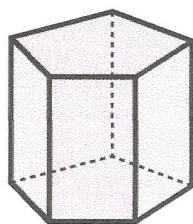
PRISMA

TRIANGULAR



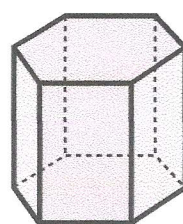
PRISMA

QUADRANGULAR



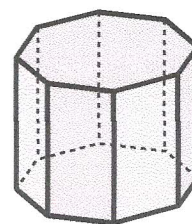
PRISMA

PENTAGONAL



PRISMA

HEXAGONAL



PRISMA

OCTOGONAL