

3a PARADA: AVINGUDA DOCTOR CLARÀ. HOSPITAL PROVINCIAL

EXERCICI 2:

1. Qui és el personatge principal de la llegenda? **El rei del castell**
2. És real el castell de **Quermansó** i la població de **Vilajuïga**? Busca-ho a internet. On es troba? **Sí, és real, es troba a L'alt Empordà, a Girona, a la Comunitat de Catalunya.**
3. Amb quines paraules comença la llegenda? **Fa molt de temps...**
4. Busca al diccionari la paraula **bocabadat**, si no tens a casa pots buscar-ho al diccionari en línia: <https://diccionari.llenguavalenciana.com/general/> i copia el seu significat a la llibreta. Quin tipus de paraula és? (nom, verb, adverbi, determinant, adjectiu,...).
Bocabadat significa: admirat, sorprès, impressionat.
Per tant, es tracta d'un adjectiu.
5. Explica perquè les paraules subratllades al text porten o no accent. Fixa't amb l'exemple:
 - **Pròxim: porta accent perquè és plana i acaba amb m.**
 - **Tresor: no porta accent perquè és aguda i acaba amb r**
 - **Estàtua: porta accent perquè és esdrúixola.**
 - **Cabres: no porta accent perquè és plana i acaba amb vocal + s**
 - **Es: no porta accent perquè és monosíl·laba i no és del verb ser.**
 - **Més: accent diacrític, adverbi de quantitat.**
 - **Època: porta accent perquè és esdrúixola.**
 - **Criats: no porta accent perquè és aguda i acaba amb ts**
 - **Nau: no porta accent perquè és monosíl·laba**
 - **Or: no porta accent perquè és monosíl·laba**
6. Segons la llegenda, on es troba actualment la cabra d'or? **Als passadissos del castell**
7. Còpia el desenllaç d'aquesta llegenda a la teua llibreta.
"Diu la llegenda que el rei no va arribar mai a la mar i que ell, els criats i la cabra d'or van quedar atrapats en aquells passadissos de tant gran que era la estàtua."

EXERCICI 3:

Hechicero: embruixador: bruix/bruixot: Home que, segons la creença popular té poders sobrenaturals per tindre un pacte en el dimoni. // Home que en algunes cultures realitza rituals màgics i es dedica a sanar o controlar forces sobrenaturals.

5a PARADA: PLAÇA HUERTO SOGUEROS

EXERCICI 2:

1. A què es dedicaven els corders o filadors? **Eren artesans que treballaven amb el cànem i elaboraven cordes i fils.**
2. Quina era la matèria prima que utilitzaven? **El cànem**
3. Per què tenien problemes amb els veïns? **Perquè ocupaven molt d'espai i treballaven a les places i carrers**
4. Quines varen ser les raons per les que es va deixar de cultivar el cànem? **Pels avanços de les fàbriques, el cultiu de la taronja i la utilització del cuir per a fer calçat.**

EXERCICI 4:











- Turisme: sector terciari
- Indústria tèxtil: sector secundari
- Pesca: sector primari
- Calçat: sector secundari
- Química: sector secundari
- Fabricació de mobles: sector secundari
- Indústria ceràmica i taulell: sector secundari
- Recollida de cítrics i hortalisses: sector primari

7a PARADA: PLAÇA MAJOR. SCULPTURE "The women of the market"



- A. The speaker gives directions to the POST OFFICE
- B. The speaker gives directions to the UNDERGROUND STATION
- C. The speaker gives directions to the CINEMA
- D. The speaker gives directions to the BUS STATION
-

Exercise 3: Write the correct word in the boxes below the picture.

✓ turn left	✓ roundabout	next to	go past	✓ take the second left
✓ turn right	opposite	✓ take the second right	✓ traffic lights	✓ go straight on
				
ROUNDABOUT	TAKE THE 2nd RIGHT	NEXT TO	TURN RIGHT	GO PAST
				
TAKE THE 2nd LEFT	TRAFFIC LIGHTS	GO STRAIGHT ON	OPPOSITE	TURN LEFT

Exercise 4: Read the following directions, look on the map and answer the questions.

-
- A Go straight on. Then take the first left on to Green Street. Walk past the library and it's the building next to the library on the left.
- B Go straight on. Go past the traffic lights. You will see a shop on the right. Go past that and it's on the right next to the shop.
- C Go straight on. Go past the traffic lights and go straight on until you get to the roundabout. At the roundabout turn left. Go past the theatre. It's the building next to the theatre, opposite the hospital.
- D Go straight on. Go past the traffic lights and take the second right on to King's Road. Go past the bookshop. It's the building next to the bookshop opposite the café.

8a PARADA: CALLE MAYOR.MUSEO AL AIRE LIBRE

EXERCICI 2: Contesta estas preguntas sobre la biografía de Sebastián Planchadell:

1. ¿En qué año nació y dónde? **Nació en Costur en 1939**
2. ¿Aparecen solo las ciudades en las que ha vivido o también las que ha ido a visitar de viaje? **Solo las que ha vivido**
3. ¿Qué acontecimientos importantes de la vida de este artista aparecen en su biografía?
 - Cuando nace y donde
 - Cuando cambia de ciudad para vivir o estudiar
 - Cuando hace el servicio militar
 - Cuando regresa a la ciudad
 - Cuando realiza exposiciones
 - Cuando se casa
 - Cuando crea una galería
 - Cuando realiza una obra importante

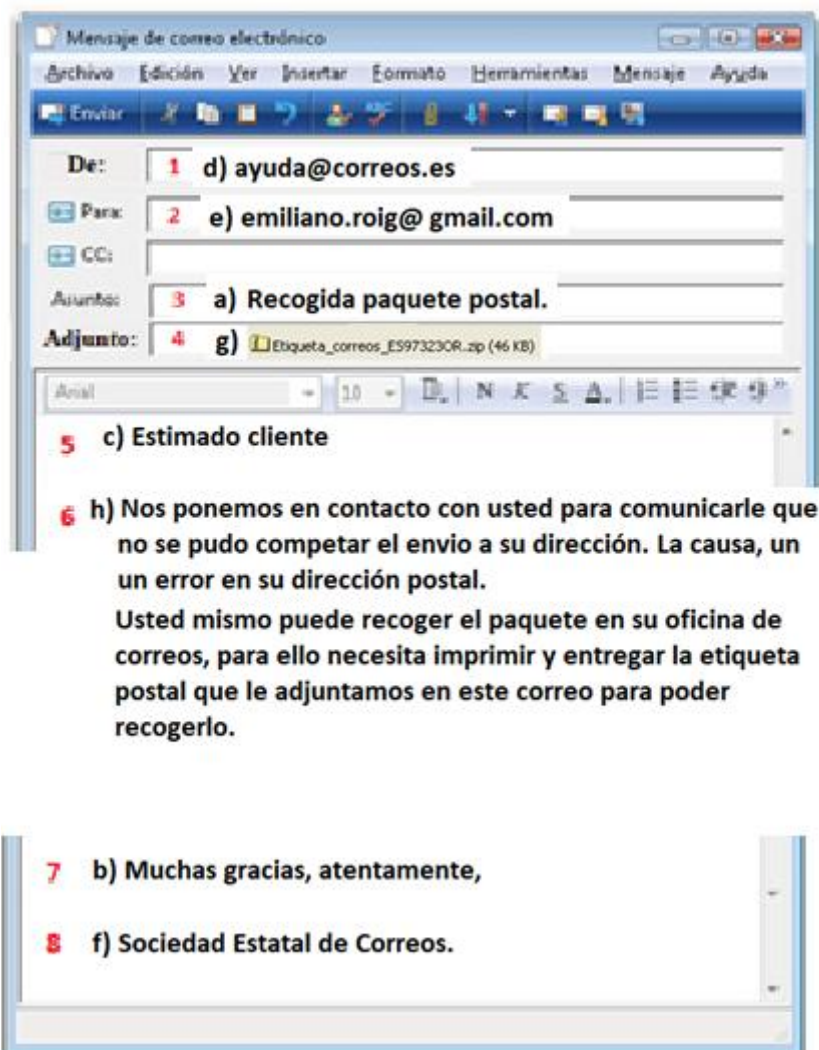
9a PARADA: CARRER CABALLEROS, 6. GAL·LERIA-TALLER DE LUÍS BOLUMAR

EXERCICI 2:

- a) En el video aparece realizando obras de PINTURA y GRABADO, ¿qué otras disciplinas artísticas realiza BOLUMAR? **ESCULTURA I CERÁMICA**
- b) ¿Dónde nació? ¿En qué año? ¿Qué edad tiene en la actualidad? **PEÑALBA, nació en 1951, tiene 69 años.**
- c) ¿Qué es para él lo que considera “el centro del universo” y que aparece en casi todas sus obras? **La mujer.**
- d) ¿podemos visitar su taller? **Sí**
- e) Entra en el apartado PINTURA de la izquierda de la página web, Échales un vistazo a algunas de sus obras de pintura y contesta: ¿Utiliza normalmente colores claros, vivos u oscuros? **Vivos**
- f) Entra en el apartado GRABADO de la izquierda de la página web, Échales un vistazo a algunas de sus obras de grabado y contesta: ¿qué dos animales aparecen en algunos de ellos? **Toros y caballos**
- g) Entra en el apartado ESCULTURA de la izquierda de la página web, Échales un vistazo a algunas de sus obras de escultura, si clicas sobre cada una de ellas tienes su información, título de la obra, dimensiones, año y el material del que están hechas. ¿Qué dos tipos de material utiliza en sus esculturas? **Resina y bronce**

- h) Entra en el apartado CERÁMICA de la izquierda de la página web, Échales un vistazo a algunas de sus obras de cerámica y contesta: ¿Qué color predomina en estas obras, rojo, azul o verde? **Azul**
- i) Entra en el apartado CONTACTO de la izquierda de la página web, ¿cuál es su dirección de correo que deberemos anotar en el correo electrónico que escribiremos en la libreta? **info@bolumar.net**
- j) Entra en el apartado CV de la izquierda de la página web, ahí podemos echar un vistazo a su currículum de exposiciones. Contesta:
- ¿en qué año realizó la primera y dónde? **1973. Círculo Mercantil, Castellón.**
 - Segorbe está muy cerca de donde nació, ¿cuántas exposiciones ha hecho allí? **13**
 - ¿En qué países extranjeros ha expuesto su obra? **Alemania, USA, Holanda, Italia, R. Unido y Francia.**

EXERCICI 3: ¿Se trata de un correo formal o informal? De un correo formal



10a PARADA: AVINGUDA GERMANS BOU, 28. MUSEU DE BELLES ARTS DE CASTELLÓ.

EXERCICI 2:

1. Primer de tot ens haurem de posar en contacte amb el museu, de quines maneres ho podem fer?
Podem fer-ho per telèfon , +34964727500 o per correu:
museubellesartscastello@gva.es
2. La teua serà una exposició temporal, és a dir, sols estarà un temps, en quina planta es farà la teua exposició? (mira el plànol) **A la planta baixa**
3. En quin horari podrem visitar el museu o la teua exposició? Quins dies de la setmana? **De dimarts a dissabte de 10 a 2 i de 4 a 8, i els diumenges de 10 a 2**
4. És el mateix horari si volem comprar alguna cosa? **Sí**
5. Segons la informació de la pàgina, de les exposicions permanents que hi ha, una és de ceràmica valenciana d'entre els segles XVI i XIX, de quins pobles és aquesta ceràmica?
D' Alcora, Onda i Ribesalbes.

EXERCICI 3:

1. Apareix als cartells de què són les exposicions, a quina disciplina artística pertanyen?(fotografia, ceràmica, pintura, escultura, gravats,...) **Sí**
2. Apareix als cartells la ciutat, l'edifici o lloc, la sala,... on es realitzaran les exposicions? **Sí**
3. Apareixen imatges als cartells? **Sí**
4. Apareix als cartells l'horari o els dies de quan es faran les exposicions per poder visitar-les? **Sí**

12a PARADA: CARRER CHURRUCA. GRAU DE CASTELLÓ.

EXERCICI 1:

1. Per a representar la Terra en una superfície plana es fa amb el globus terraquí. **FALS**
2. La llegenda d'un mapa ens explica què signifiquen els colors i dibuixos que apareixen en ell. **VERDADER**
3. Els punts de coordenades s'han d'escriure entre parèntesi i separats per comes. **VERDADER**
4. En un punt de coordenades, els números que apareixen dins del parèntesi corresponen el primer a l'eix vertical i el segon a l'eix horitzontal. **FALS**

EXERCICI 2:

MARINER carrer Churruca

PEIXATERA Avinguda Buenavista

REMENADORA Avinguda Buenavista

RALLADOR Avinguda Buenavista

EXERCICI 3:

1. Quina escultura es troba a la coordenada (9,12)? **"Hembra de mar"**
2. En quina coordenada trobem l'escultura **"Despidiendo al marinero"**? **(6, 5)**
3. L'escultura **"Bajo el Sol"** és la que queda més separada de la resta, quina és la seua coordenada? **(6, 15)**
4. Escriu les coordenades de les quatre escultures de l'activitat final.

MARINER (4, 2)

PEIXATERA (5, 5)

REMENADORA (5, 6)

RALLADOR (6, 7)

13a PARADA: AVINGUDA VERGE DEL LLEDÓ. ESCULTURA TOMBATOSSALS

EXERCICI 1:

- Sabent que 1 tona equival a 1000 g, quants kg pesa l'escultura?



$$X = 1000 \times 20; 1000 \times 20 = 20.000 \text{ g}$$

Resposta: l'estàtua pesa 20.000 g.

EXERCICI 2:

- Suposant que un costat del cub mesura 2 metres, quin és el volum del cub? Mira aquest vídeo per recordar com es calcula el volum del cub i després fes els exercicis que et proposa al final.

$V = L^3$. $V \text{ cub} = 2^3 = 8 \text{ m}^3$ (Recordeu que quan mesurem l'àrea el resultat ens dona metres quadrats (m^2) i quan mesurem el volum el resultat ens dona metres cúbics. (m^3)).

- Exercicis del vídeo explicatiu:

A) $V = 7^3 = 7 \times 7 \times 7 = 343 \text{ m}^3$

B) $V = 12^3 = 12 \times 12 \times 12 = 1728 \text{ m}^3$

C) $V = 3,5^3 = 3,5 \times 3,5 \times 3,5 = 42,875 \text{ m}^3$

D) $V = 8^3 = 8 \times 8 \times 8 = 512 \text{ m}^3$

E) $V = 15^3 = 15 \times 15 \times 15 = 3.375 \text{ m}^3$

F) $V = 7,8^3 = 7,8 \times 7,8 \times 7,8 = 474,552 \text{ m}^3$

Exercici 3:

- Quants kilograms pesa Bufanúvols?

Com ja sabem, 1 t equival a 1000 kg. Per tant, si l'estàtua pesa 3 t el seu pes en kg serà de **3000 kg**.

- Quina seria l'àrea del rectangle format per les mesures de l'escultura?

La base del rectangle seria de 3m, mentres que la seua altura és de 4m.

A (rectangle) = b X a.



A = 3 X 4 = **12 m²**

EXERCICI 4:

- Quin tipus de triangle és? Calcula el perímetre i l'àrea del triangle.

El triangle format pels tres carrers és un triangle rectangle.

Perímetre (P) del triangle:

$$P = 285,45 + 241,3 + 373,7 = 900,45 \text{ m}$$

Area (A) del triangle: base X altura dividit entre 2.

$$A = 285,45 \times 241,3 = 68879,085 : 2 = \mathbf{34.439,5425 \text{ m}^2}$$