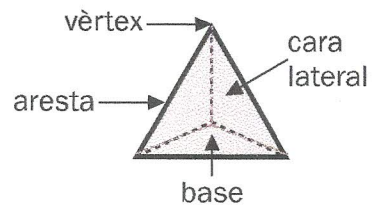


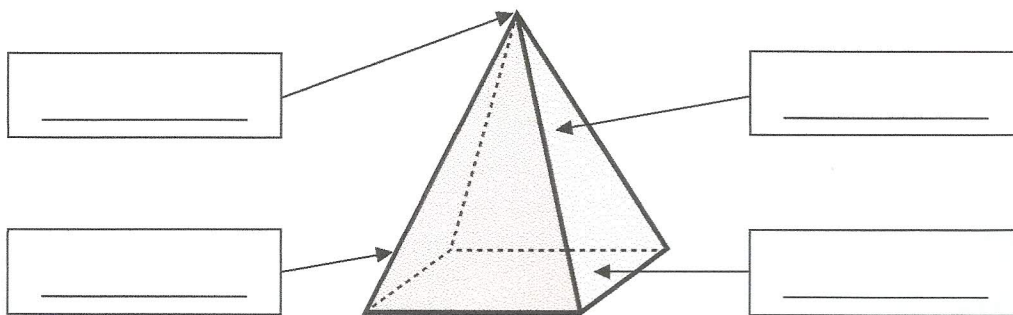
Nom \_\_\_\_\_ Data \_\_\_\_\_

**Recorda**

- Els elements de les piràmides són: **base, cares laterals, vèrtexs i arestes.**
- Les piràmides es classifiquen segons el polígon de la base.


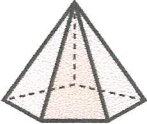




**1. Escriu el nom dels elements d'aquesta piràmide. Després, contesta.**



- Quantes bases té una piràmide? \_\_\_\_\_
- Quantes bases té un prisma? \_\_\_\_\_

**2. Completa la taula.**

				
Nombre de bases				
Forma de la base				
Nombre de cares laterals				
Forma de les cares laterals				
Nombre de vèrtexs				
Nombre d'arestes				
Nom				