


Nom _____ Data _____

Recorda

Les principals màquines simples són la roda, la politja, el pla inclinat i la palanca.


- La roda disminueix la força de fregament.
- La politja canvia la direcció d'una força.
- La palanca i el pla inclinat permeten aplicar forces menors.

1. Ordena les lletres i descobreix la utilitat de les màquines següents.




viranac al riccidóe ed al çraof

► Politja: _____



rearzaitl nua scata antuzliti senym çorfa

► Palanca: _____



imisdiurn al açofr ed egarefmnt

► Roda: _____



realve causeaergr mprtana nemys oçfar

► Pla inclinat: _____


2. Pinta segons la clau. Després, escriu el tipus de palanca que és.

verd

punt de suport

roig

força



Palanca de _____

Palanca de _____

Palanca de _____