


# ACCEPTES EL REPTTE?

2



Piensa un número.  
Calcula el doble del número.  
Súmale seis.  
Calcula la mitad.  
Resta el número  
que habías pensado.  
La respuesta es 3.



## LOS ENIGMAS DE GRIN

Rosi es 3 años mayor que Lili.

Toto tiene la mitad  
de años que Rosi.

Lili tiene 11 años.

¿Cuál es la edad  
de los otros?



A large empty rectangular area with a dotted blue border, intended for writing the solution to the riddle.

## LOS ENIGMAS DE GRIN

Soy un número de 3 cifras.  
La suma de las tres cifras es 18.  
La primera cifra es la mitad  
que la segunda  
y un tercio de la tercera.  
¿Qué número soy?

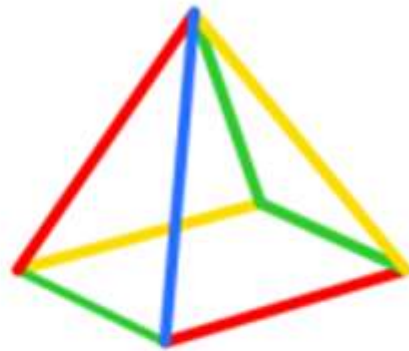
— — —



A large empty rectangular area with a dotted blue border, intended for the student to write their answer to the riddle.

# LOS ENIGMAS DE GRIN

¿Cuál es la vista desde arriba de esta pirámide?



A



B



C



D



A large empty rectangular area with a dotted border, intended for the student to write their answer.

## LOS ENIGMAS DE GRIN

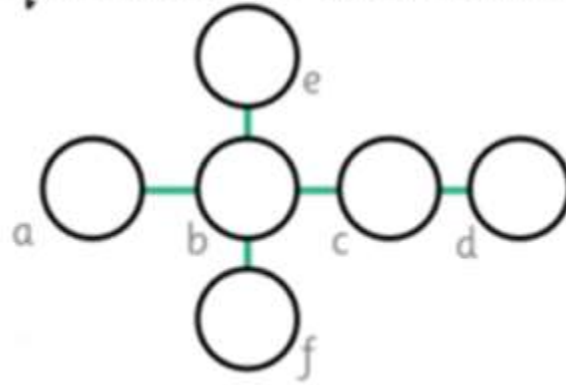
Tengo un euro  
en el bolsillo,  
pero tengo  
más de una moneda  
y menos de diez.  
¿Cuántas soluciones  
distintas encuentras?



A large empty rectangular area with a dotted blue border, intended for writing the solution to the riddle.

## #GRINENIGMA

Coloca estos números 1,2,3,4,5,6 para que todas las líneas sumen 12.



A large empty rectangular area with a dotted blue border, intended for the student to write their solution to the magic square puzzle.