



# LLIGA MATEMÀTICA 2022/2023



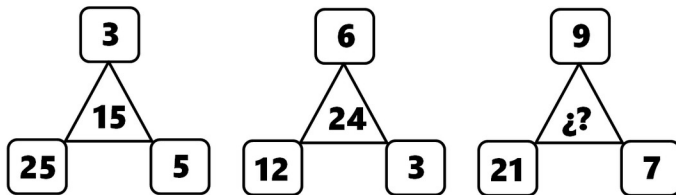
Nivell 1 (1er i 2n d'ESO)

Fase 4

## SERIES

Esbrina el número que falta en l'última figura de cada sèrie. Recorda explicar com l'has calculat.

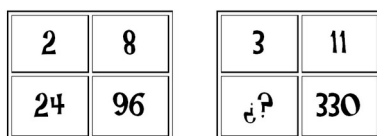
a)



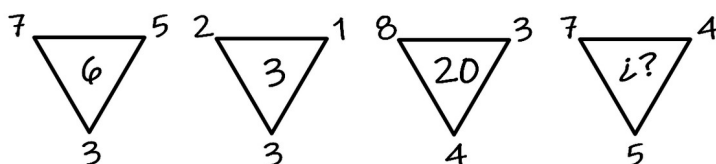
b)



c)



d)



**Recorda raonar les teues respostes i entregar-les en fulles senceres i separades.**

Dipositeu les vostres solucions del problema al departament de matemàtiques.

Data límit d'entrega de solucions: **Dimecres 5 d'abril**