

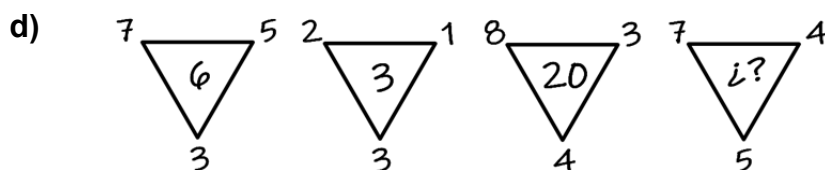
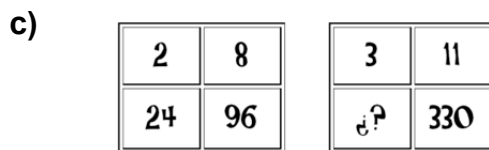
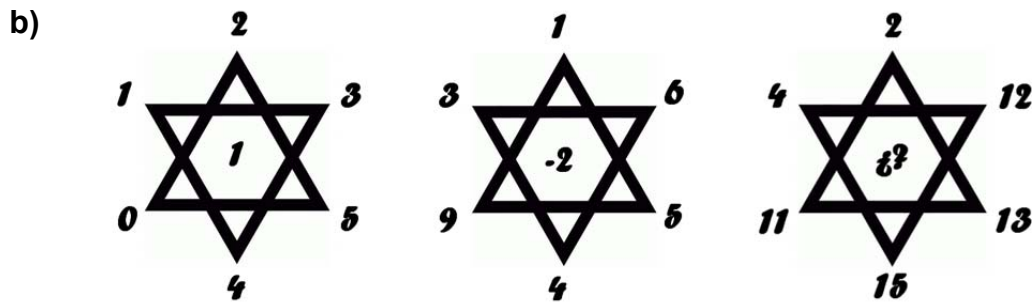
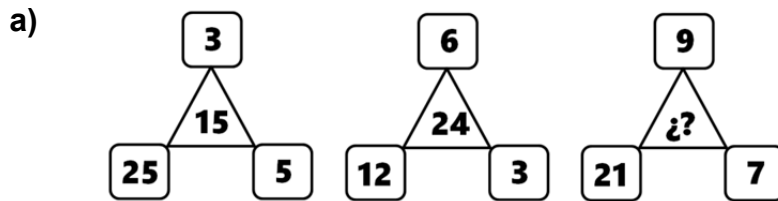
LLIGA MATEMÀTICA 2023/2024

Nivell 1 (1er i 2on d'ESO)

Jornada 5

SERIES

Esbrina el número que falta en l'última figura de cada serie. Recorda explicar com l'has calculat.



Recorda que has de raonar les teues respostes.

Dipositeu les vostres solucions del problema a la bústia que hi ha en consergeria o al departament de matemàtiques

Visita www.clotdelmoro.net o demana una còpia al teu professor de matemàtiques.

Data límit d'entrega de solucions: Divendres 1 de març