



PRUEBA DE ACCESO A 1º EE.PP.  
Lenguaje Musical

Nombre y apellidos:

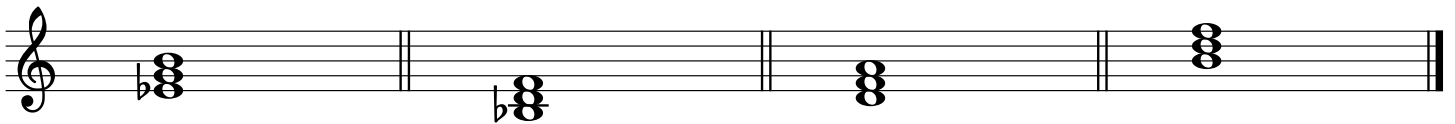
Especialidad:

1. Intervalos y acordes tríadas:

a) Invierte y califica los siguientes intervallos:

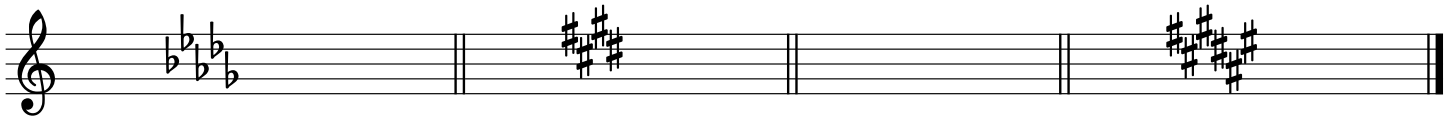


b) Indica de qué tipo son los siguientes acordes tríada:



2. Tonalidades:

a) Escribe a qué tonalidades pertenecen las siguientes armaduras:



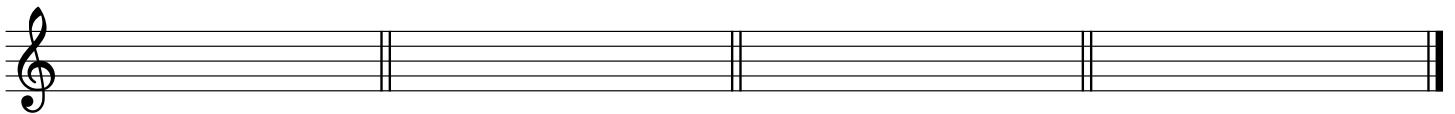
b) Escribe la armadura de las siguientes tonalidades:

Fa # m

Sol b M


Do m

Do b M



3. Escalas:

a) Escribe la escala de Re M Mixta Secundaria y la de Fa m armónica:



b) Escribe el nombre de estas escalas:



4. Compases:

Rellena la tabla con las figuras correspondientes a la unidad de tiempo (U.T.), unidad de compás (U.C.), unidad de subdivisión (U.S.) y tipo de subdivisión (T.Sub.).

COMPÁS	U.T.	U.C.	U.S.	T. Sub.
$\frac{2}{16}$				
$\frac{3}{2}$				
$\frac{6}{4}$				
$\frac{9}{8}$				
$\frac{4}{8}$				

5. Valores irregulares:

Escribe en cada hueco la letra correspondiente para completar el fragmento rítmico:

A B C D E F F G

Fragmento rítmico: