
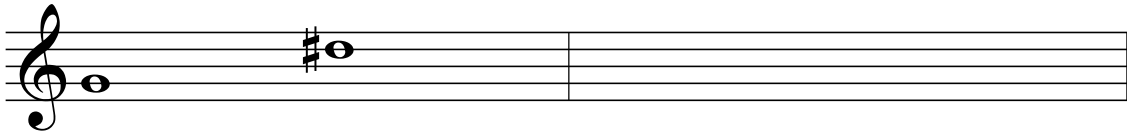
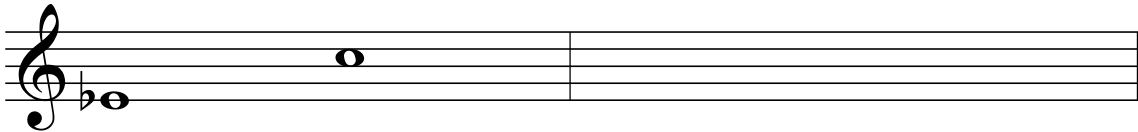


Prova Teòrica

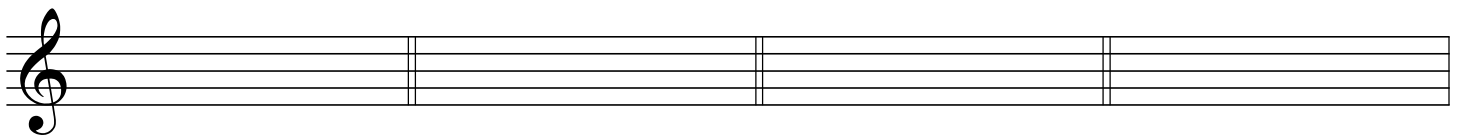
1- Classifica el intervals melòdics següents:



2- Escriu la inversió de cada interval i classifica'l en número i espècie:



3- Escriu l'armadura de les Tonalitats següents:



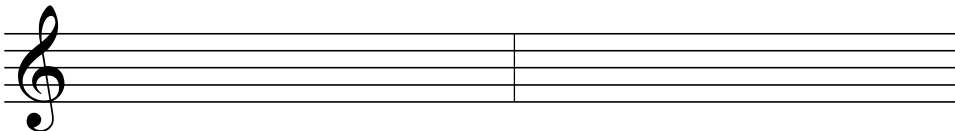
Re m

Fa # m

Sib m

Do# M

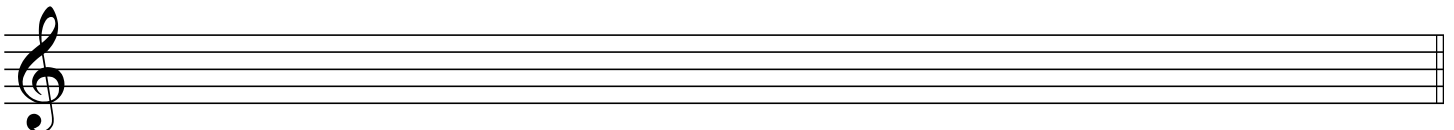
4- Escriu la nota que correspon al que s'indica:



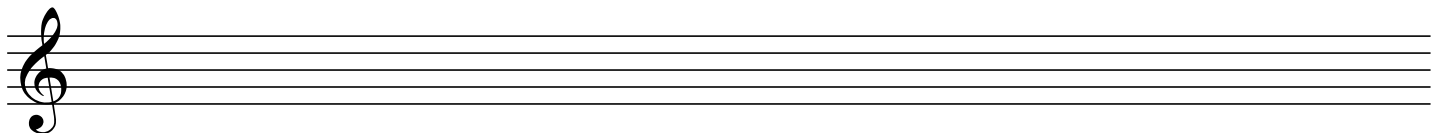
Dominant de Lab M

Sensible de Do m

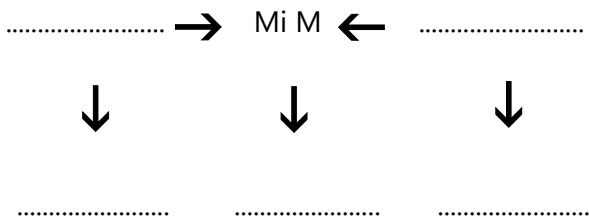
5- Escriu l'escala de Mi m harmònica:



6- Escriu l'escala de Do # m melòdica ascendent i descendent:



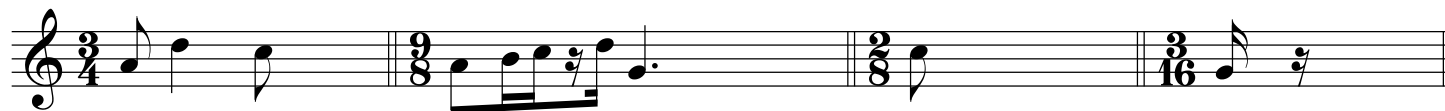
7- Escriu els Tons veïns de:



8- Completa la taula dels compassos:

COMPÀS	Simple o compost	Binari, ternari o quaternari	Figura de Temps	Figura de Subdivisió	Figura de Compàs
4 / 16					
9 / 2					

9- Completa els compassos següents amb un valor artificial (doset, treset, siset, quatre o cinquet):



10- Transcriu a la clau de:

