

NOM:

INSTRUMENT:

1.- Escribe les següents escales: (4 punts)

La M



Sol menor natural



Si menor harmònica



Do menor melòdica



2.-Escribe les armadures corresponents i seu relatiu menor. (1 punt)

Sol Major

_____ menor

Mi b Major


_____ menor

A musical staff with two boxes. The left box contains 'Sol Major' and a blank line followed by 'menor'. The right box contains 'Mi b Major' and a blank line followed by 'menor'. The staff lines are visible behind the boxes.

Intervals (2 punts)

3. Analitza els següents intervals:

a)



b) Realitza els següents intervals:



8ª J asc

3ª m asc

2ª M des

5ª J des

4.- Quadre de compassos: Unitat de temps (UT)/Subdivisió (US)/Compàs (UC)

(2 punts)

	UT	US	UC
6			
8			
4			
4			
3			
4			

5.- Encercla les síncopes (1punt)




PROVES D'ACCÉS 4º EE.EE. Setembre 2017


CONSERVATORI
PROFESIONAL
DE MÚSICA
"JOSÉ MANUEL ZQUIERDO"
DE CATARROJA

DICTAT

Plantilla del professor.



PROVES D'ACCÉS 4º EE.EE. Setembre 2017



LECTURA

The musical score consists of two staves. The first staff is in bass clef, 2/4 time, and contains a sequence of eighth and sixteenth notes with a triplet of eighth notes. The second staff starts with a measure number '5' above it, continues with bass clef notation, and then switches to a treble clef for the final portion of the piece. The score includes various rhythmic values and rests.