


Accés a 2º EE.EE

Coneixements teòrics del Llenguatge Musical

Setembre 2017




NOM _____ COGNOMS _____

INSTRUMENT: _____


1) Ompli amb figures (2 punts):

COMPÀS	UNITAT DE COMPÀS	UNITAT DE TEMPS	UNITAT DE SUBDIVISIÓ
3			
4			
2			
4			
4			
4			

2) Escriu la escala de Do Major amb figures de negres i indica els seus semitons amb un cercle (1 punt):




3) Passa aquest fragment a clau de Fa en quarta (1 punt):



4) Diges quants tons i semitons hi han entre les següents notes (1 punt):



5) Classifica aquests intervals amb números (1 punt):



6) Escriu el puntet on consideres (1 punt):




7) Indica les síncopes amb un cercle (1 punt):




8) Escriu les llinies divisòries (1 punt):



9) Escriu aquest fragment perquè sone igual sense els signes de repetició (1 punt):



PROVES D'ACCÉS 2º EE.EE. Setembre: 2017

CONSERVATORI
PROFSSIONAL
DE MÚSICA
"JOSÉ MANUEL ZOUJIERDO"
DE CATARROJA

DICTAT

Plantilla del professor.



5



PROVES D'ACCÉS 2º EE.EE. Setembre 2017

CONSERVATORI
PROFESIONAL
DE MÚSICA
"JOSE VANDEL ZQUIERDO"
DE CATARROJA

LECTURA

