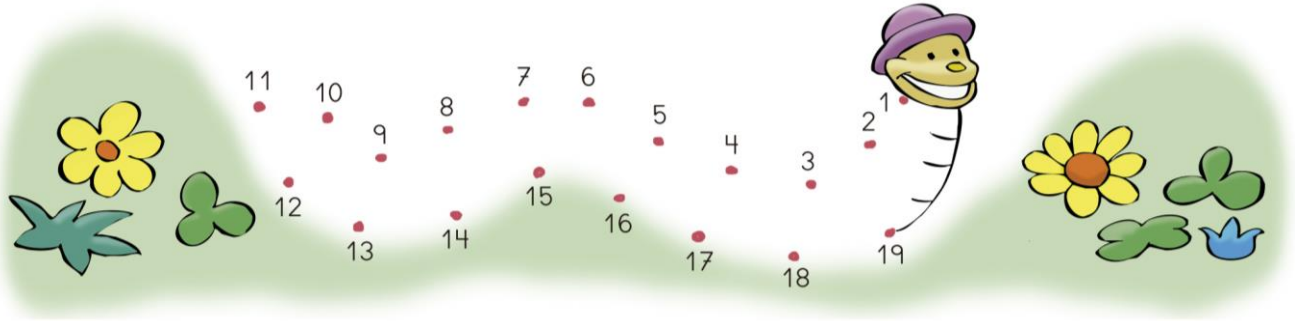


Nom:

Curs:

1. Uneix els punts en ordre.



2. Encercla el nombre més gran de cada parella.

7 9

12 3

13 17

4 1

10 5

10 15

0 2

5 3

3. Suma i resta.

$$\begin{array}{r} 6 \\ + 3 \\ \hline \end{array}$$

$$\begin{array}{r} 3 \\ + 4 \\ \hline \end{array}$$

$$\begin{array}{r} 5 \\ + 3 \\ \hline \end{array}$$

$$\begin{array}{r} 9 \\ - 4 \\ \hline \end{array}$$

$$\begin{array}{r} 7 \\ - 3 \\ \hline \end{array}$$

.....


.....

.....

.....


.....

4. Quants n'hi ha?



..... desena i
..... unitats

D	U



..... desena i
..... unitats

D	U

Nom:

Curs:

1. Suma i resta.

$$\begin{array}{r} 9 \\ - 8 \\ \hline \end{array}$$

.....

$$\begin{array}{r} 7 \\ - 4 \\ \hline \end{array}$$

.....

$$\begin{array}{r} 7 \\ + 5 \\ \hline \end{array}$$

.....

$$\begin{array}{r} 8 \\ + 6 \\ \hline \end{array}$$

.....

$$\begin{array}{r} 6 \\ - 3 \\ \hline \end{array}$$

.....

$$\begin{array}{r} 7 \\ - 3 \\ \hline \end{array}$$

.....


$$\begin{array}{r} 9 \\ + 3 \\ \hline \end{array}$$

.....

$$\begin{array}{r} 5 \\ + 4 \\ \hline \end{array}$$

.....

2. Encercla una desena i escriu el nombre total.



3. Dibuixa 9 peixos de manera que cada peixera tinga un peix més que l'anterior.

