

Nom:

Curs:

1. Ratlla i resol les restes.



$$5 - 4 = \dots\dots$$



$$8 - 5 = \dots\dots$$



$$7 - 3 = \dots\dots$$



$$6 - 2 = \dots\dots$$

2. Ordena de més xicotet a més gran.

8 4 0

--	--	--

2 9 6

--	--	--

5 9 1

--	--	--

7 3 4

--	--	--

3. Resol els problemes.

- Tinc 5 ovelles. Si en compre 3 més, quantes n'hi haurà?

$$\dots\dots \square \dots\dots = \dots\dots$$

Hi haurà $\dots\dots$.



- Hi havia 8 gats i se'n van 3. Quants en queden?

$$\dots\dots \square \dots\dots = \dots\dots$$

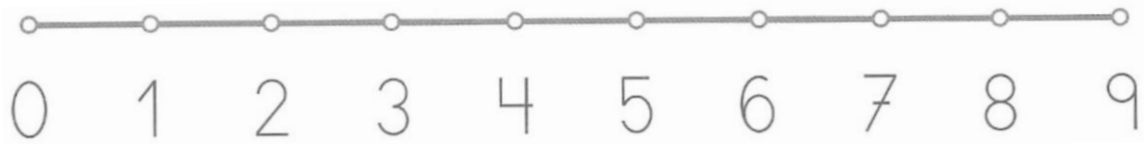
Queden $\dots\dots$.



Nom:

Curs:

1. Compta a la recta i calcula.



$$\begin{array}{r} 4 \\ - 1 \\ \hline \end{array}$$

.....

$$\begin{array}{r} 5 \\ - 3 \\ \hline \end{array}$$

.....

$$\begin{array}{r} 7 \\ - 2 \\ \hline \end{array}$$

.....

$$\begin{array}{r} 9 \\ - 4 \\ \hline \end{array}$$

.....


2. Escriu un nombre més xicotet.

7	
---	--

4	
---	--

2	
---	--


3. Resol.

- Tinc 8  i me'n menja 4. Quantes me'n queden?

Em queden



$$\dots \square \dots = \dots$$

- Hi ha 6 . Si n'arriben 3 més, quants n'hi haurà?

Hi haurà



$$\dots \square \dots = \dots$$