



Lectura i escriptura de números de tres xifres

Nom _____ Data _____

RECORDA

En llegir i escriure números de tres xifres, posa atenció a les xifres que són zero.

1 Relaciona cada número amb la seua lectura.

- 275 •
 - 516 •
 - 707 •
 - 830 •
 - 928 •
- huit-cents trenta
 - set-cents set
 - nou-cents vint-i-huit
 - dos-cents setanta-cinc
 - cinc-cents setze

2 Escriu com es llig cada número.

- 349 ► _____
- 418 ► _____
- 680 ► _____
- 902 ► _____

3 Completa la taula.

| Número | Lectura |
|--------|------------------------|
| 109 | |
| 345 | |
| 515 | |
| | Sis-cents huitanta |
| | Set-cents sis |
| | Nou-cents setanta-tres |

4 Escriu amb xifres i lletres un número amb les tres xifres iguals.

 ► _____



Descomposició de números de tres xifres

Nom _____ Data _____

RECORDA

Els números de tres xifres estan formats per centenes, desenes i unitats.

1 Relaciona cada número amb la seua descomposició.

| | |
|-----|----------------|
| 367 | $6C + 8D + 9U$ |
| 689 | $7C + 6D + 3U$ |
| 763 | $8C + 9D + 6U$ |
| 896 | $3C + 6D + 7U$ |

2 Compta i completa.

| | <table border="1" style="border-collapse: collapse; width: 100px; height: 40px;"> <tr><th style="width: 33%;">C</th><th style="width: 33%;">D</th><th style="width: 33%;">U</th></tr> <tr><td> </td><td> </td><td> </td></tr> </table> | C | D | U | | | | $3C + ___ D + ___ U$ $300 + ______ + ______$ |
|---|--|---|---|---|--|--|--|---|
| C | D | U | | | | | | |
| | | | | | | | | |
| | <table border="1" style="border-collapse: collapse; width: 100px; height: 40px;"> <tr><th style="width: 33%;">C</th><th style="width: 33%;">D</th><th style="width: 33%;">U</th></tr> <tr><td> </td><td> </td><td> </td></tr> </table> | C | D | U | | | | $___ C + ___ D$ $______ + ______$ |
| C | D | U | | | | | | |
| | | | | | | | | |
| | <table border="1" style="border-collapse: collapse; width: 100px; height: 40px;"> <tr><th style="width: 33%;">C</th><th style="width: 33%;">D</th><th style="width: 33%;">U</th></tr> <tr><td> </td><td> </td><td> </td></tr> </table> | C | D | U | | | | $___ C + ___ U$ $______ + ______$ |
| C | D | U | | | | | | |
| | | | | | | | | |

3 Escribe cada número i fes-ne la descomposició.

- Un número de tres xifres en què la xifra de les centenes és 4.

► _____

- Un número de tres xifres en què la xifra de les desenes és 9.

► _____



Comparació de números de tres xifres

Nom _____ Data _____

RECORDA

Per a comparar números de tres xifres, es comparen les centenes, si són iguals es comparen les desenes, i si també són iguals, es comparen les unitats.

1 Compara els números i utilitza el signe corresponent.

- 345 ○ 340
- 812 ○ 834
- 409 ○ 904
- 615 ○ 150
- 745 ○ 742
- 530 ○ 538
- 789 ○ 779
- 296 ○ 302
- 880 ○ 890

2 En cada grup, encercla del color indicat.

ROIG El número major.

BLAU El número menor.

315

153 531

724

742 784

923

929 920

3 Pensa i escriu.

Quatre números majors que 500 ► _____

Quatre números menors que 400 ► _____

4 Ordena i utilitza el signe adequat.

De menor a major

- 234, 329, 432
- 809, 890, 880

De major a menor

- 547, 514, 584
- 650, 659, 654

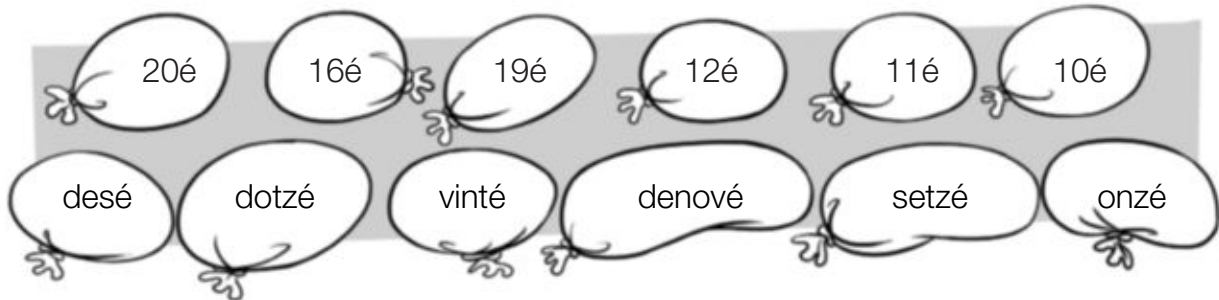


Nom _____ Data _____

RECORDA

Els números ordinals indiquen l'ordre o la posició.

1 Relaciona cada número ordinal amb la seua lectura.



2 Escriu amb lletres o amb números.

- | | |
|---------------|-------------------|
| • 7é ▶ _____ | • dotzé ▶ _____ |
| • 9é ▶ _____ | • quinzé ▶ _____ |
| • 13é ▶ _____ | • dihuité ▶ _____ |
| • 15é ▶ _____ | • vinté ▶ _____ |

3 Pensa i escriu amb xifres i lletres en quin pis viu cada un. Després, respon.

Marina viu al 14é pis. Ismael viu dos pisos per davall de Marina.
 Laura viu sis pisos per damunt de Marina.

Marina ▶ _____

Ismael ▶ _____

Laura ▶ _____

- Andrea està al quinzé pis.
De primer baixa 3 pisos i després en puja 6.
A quin pis arriba? ▶ _____
- Marc està al dotzé pis.
De primer baixa 2 pisos i després en puja 7.
A quin pis arriba? ▶ _____



Lectura i escriptura de números de quatre xifres

Nom _____ Data _____

RECORDA

En llegir i escriure números de quatre xifres, posa atenció a les xifres que són zero.

1 Escriu com es llig cada número.

- 3.879 ► _____
- 6.125 ► _____
- 7.910 ► _____
- 9.047 ► _____

2 Escriu cada número amb xifres.

- Dos mil sis-cents cinquanta-sis ►
- Quatre mil set-cents noranta-quatre ►
- Huit mil tres-cents cinquanta ►
- Nou mil nou-cents noranta ►

3 Completa l'encreuat i respon.

- A. Mil dos-cents setanta-quatre.
- B. Sis mil noranta-cinc.
- C. Nou mil set-cents huit.
- D. Cinc mil tres-cents.
- Escriu com es lligen els números de les columnes E, F, G i H.

| | E | F | G | H |
|---|---|---|---|---|
| A | | | | |
| B | | | | |
| C | | | | |
| D | | | | |



Comparació de números de quatre xifres

Nom _____ Data _____

RECORDA

Per a comparar números de quatre xifres, compara les unitats de miler, si són iguals compara les centenes, i segueix el mateix procés amb totes les xifres del número.

1 En cada cas, encercla el número que s'indica.

2 Compara i escriu el signe $<$ o $>$ segons corresponga.

RECORDA

$<$ es llig: menor que.
 $>$ es llig: major que.

1.267 ○ 2.310

3.765 ○ 3.901

6.527 ○ 6.517

5.209 ○ 4.093

4.809 ○ 4.390

8.056 ○ 8.065

8.976 ○ 9.340

6.378 ○ 6.739

9.732 ○ 9.730

9.900 ○ 7.900

7.480 ○ 7.290

7.659 ○ 7.695

3 Escriu els números que s'indiquen.

Quatre números majors que 3.500.

Quatre números menors que 7.000.

Quatre números majors que 8.850 i menors que 8.865.



Nom _____ Data _____

RECORDA

En llegir i escriure números de cinc xifres has de posar atenció a les xifres del número que són zero.

1 Escriu com es llig cada número.

- 24.541 ► _____
- 56.382 ► _____
- 78.937 ► _____

2 Escriu amb xifres.

- Vint-i-tres mil huit-cents cinquanta-sis ►
- Quaranta-huit mil set-cents vint-i-tres ►
- Setanta-cinc mil cinc-cents quaranta-nou ►
- Noranta-nou mil nou-cents setanta-quatre ►

3 Llig i relaciona.

- | | |
|--------------------------------------|----------|
| Catorze mil nou-cents noranta • | • 54.909 |
| Cinquanta-quatre mil nou-cents nou • | • 14.990 |
| Setze mil quatre-cents vint • | • 36.042 |
| Trenta-sis mil quaranta-dos • | • 16.420 |
| Setanta-huit mil setze • | • 98.106 |
| Noranta-huit mil cent sis • | • 78.016 |

4 Escriu el menor i el major número de cinc xifres i com es lligen.

 ► _____

 ► _____



Descomposició de números de cinc xifres

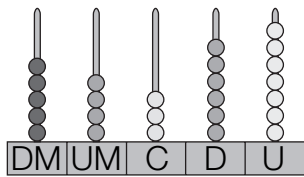
Nom _____ Data _____

RECORDA

Els números de cinc xifres estan formats per desenes de miler, unitats de miler, centenes, desenes i unitats.

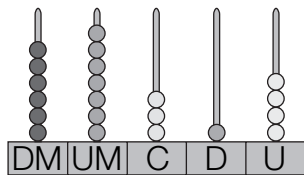
$$1 \text{ desena de miler} = 10.000 \text{ unitats} \blacktriangleright 1 \text{ DM} = 10.000 \text{ U}$$

1 Escriu el número representat en l'àbac i completa'n la descomposició.



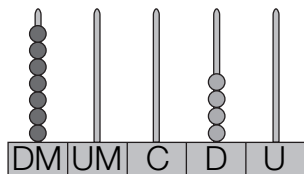
$$\blacktriangleright \text{ ___ DM} + \text{ ___ UM} + \text{ ___ C} + \text{ ___ D} + \text{ ___ U}$$

$$50.000 + \text{ ___} + \text{ ___} + \text{ ___} + \text{ ___}$$



$$\blacktriangleright \text{ ___ DM} + \text{ ___ UM} + \text{ ___ C} + \text{ ___ D} + \text{ ___ U}$$

$$\text{ ___} + \text{ ___} + \text{ ___} + \text{ ___} + \text{ ___}$$



$$\blacktriangleright \text{ ___ DM} + \text{ ___ D}$$

$$70.000 + \text{ ___}$$

2 Escriu el valor de la xifra 7 en cada número.

- 24.715
 \swarrow
 $7 \text{ C} = 700 \text{ U}$

- 52.470
 \swarrow

- 87.043
 \swarrow

- 97.256
 \swarrow

- 70.981
 \swarrow

- 64.712
 \swarrow

3 Escriu tres números en què el valor de la xifra de les desenes de miler és 50.000.



Nom _____ Data _____

RECORDA

Per a comparar números de cinc xifres, compara les desenes de miler, si són iguals compara les unitats de miler, i segueix el mateix procés amb totes les xifres del número.

1 Llig i respon.

- Quin número és major, 23.678 o 32.678? Per què?

- Quin número és menor, 45.094 o 40.940? Per què?

2 Compara i escriu el signe adequat.

15.784 ○ 42.987

34.998 ○ 62.945

67.432 ○ 53.890

80.900 ○ 89.000

47.092 ○ 49.750

53.276 ○ 51.754

76.325 ○ 76.297

91.374 ○ 91.296

29.674 ○ 29.647

60.987 ○ 60.798

81.432 ○ 81.423

97.139 ○ 97.190

3 Ordena i utilitza el signe adequat.

De menor a major

- 29.284, 30.482 i 18.999

- 89.741, 71.564 i 90.653

De major a menor

- 37.218, 72.809 i 54.275

- 63.496, 74.963 i 74.693

4 Pensa i escriu.

- Quatre números majors que 29.000 i menors que 29.200.

- Quatre números compresos entre 60.500 i 60.540.