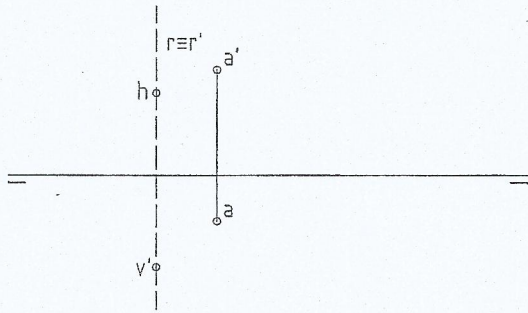
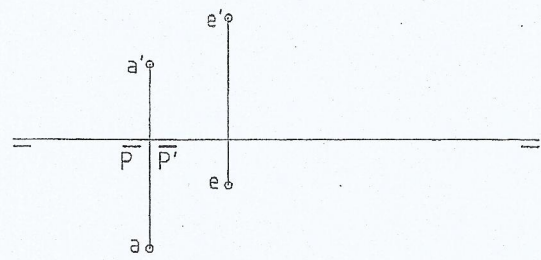


1



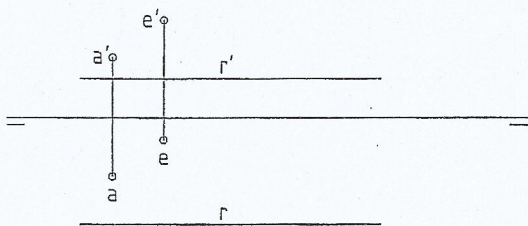
Trazar por el punto A una recta paralela a R.

2



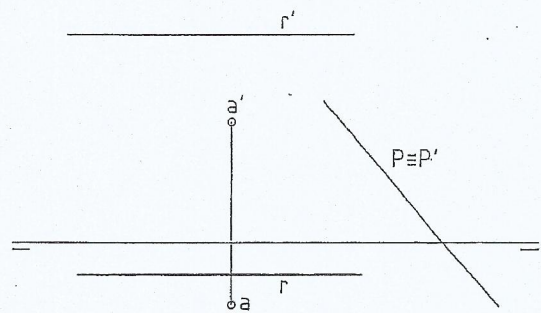
Por el punto E trazar el plano paralelo a P.

3



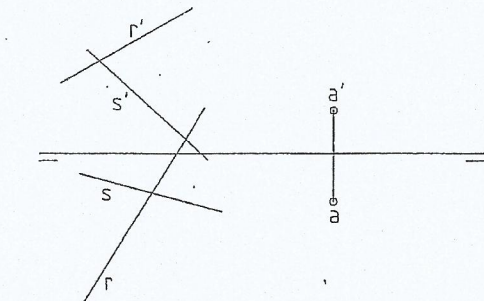
Por los puntos A y E trazar un plano paralelo a la recta R.

4



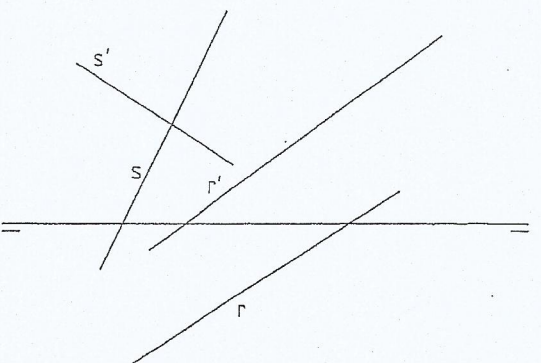
Trazar por el punto A una recta que corte a R y sea paralela a P.

5



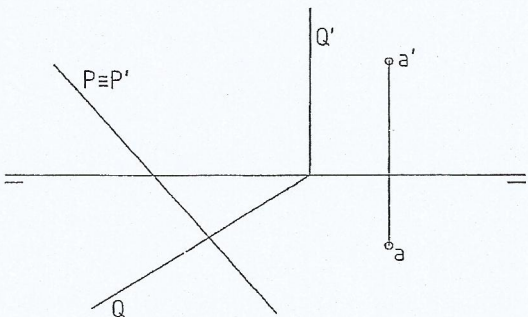
Trazar por el punto A un plano paralelo a las rectas R y S.

6



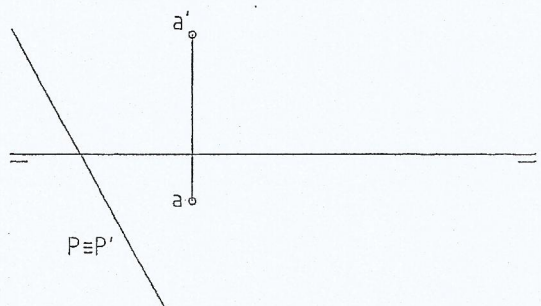
Dadas las recta R y S, trazar por R un plano paralelo a S.

7



Por el punto A trazar una recta paralela a los planos P y Q.

8



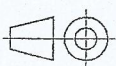
Por el punto A trazar una recta paralela al primer bisector y al plano P.

Unidades: mm.

Nombre:

Curso: N°

Escala
1:1



Paralelismo

Fecha:

Nota: