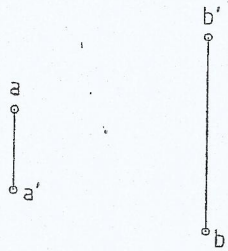
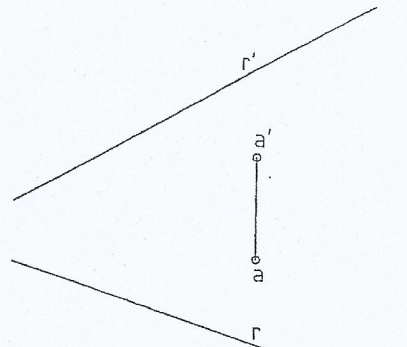


1



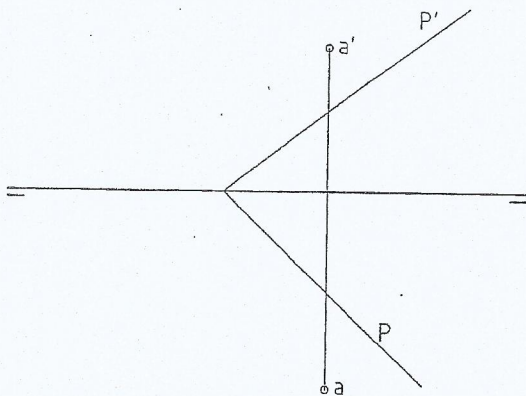
Hallar la distancia que hay entre A y B.
La posición relativa de la Línea de Tierra es indiferente.

2



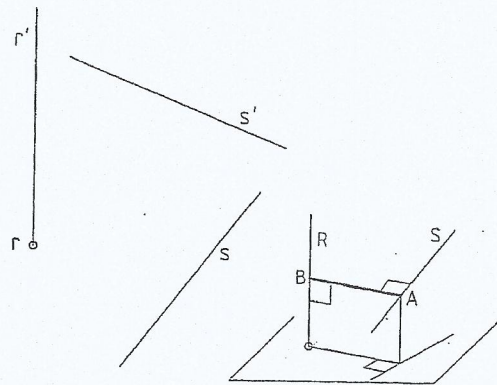
Hallar la distancia que hay entre el punto A y la recta R.

3



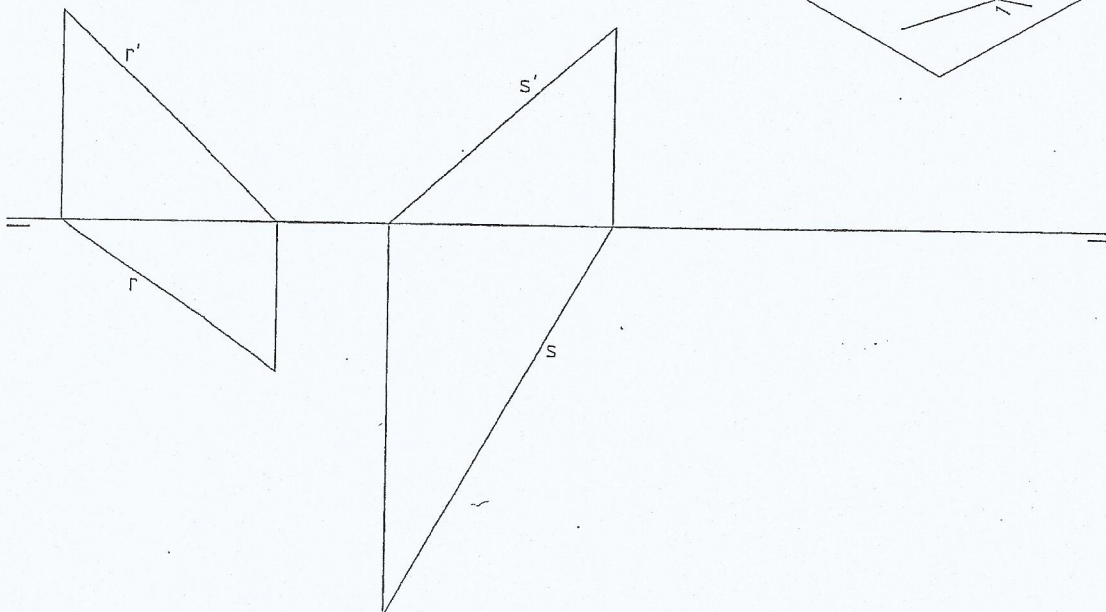
Hallar la distancia que hay desde el punto A hasta el plano P.

4



Hallar la mínima distancia que separa a las rectas R y S.

5



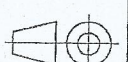
Perpendicular común a dos rectas que se cruzan. Hallar la mínima distancia que separa a las rectas R y S en magnitud y en posición.

Unidades: mm.

Nombre:

Curso: N°

Escala



Distancias

Fecha: