



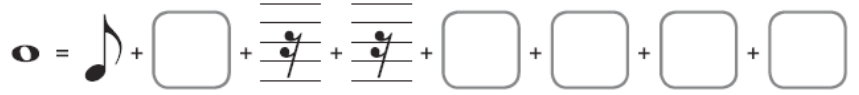



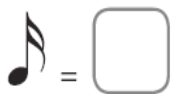
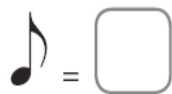
7. Completa les següents sèries usant les figures de nota i de silenci corresponents.















8. Escriu el número per a la quantitat de pulsacions que corresponen a la durada de cada figura o grup de figures.

 =
 =
 =

 =
 =
 =

 =
 =
 =

9. Relaciona amb línies i/o fletxes.