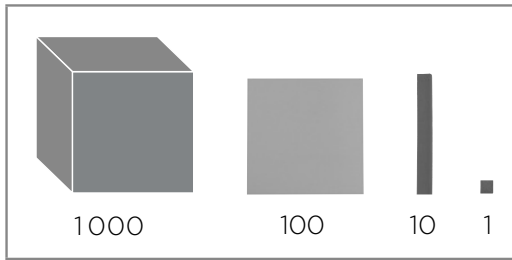




1 Dibuixa els blocs que necessites per a formar el nombre 1254.



1254

2 Escribeu el nombre anterior i posterior en cada cas.



3 Completa les sèries.

99	109		129		149
----	-----	--	-----	--	-----

807	907	1007			1307
-----	-----	------	--	--	------

998	1998			4998	
-----	------	--	--	------	--

4 Ordena aquests nombres de menor a major. No t'oblides d'escriure el signe.

824	842	822	1076	908	1001
-----	-----	-----	------	-----	------



5 Si tinc 187 € a la meua vidriola i 32 € al portamonedes, quants diners tinc aproximadament?



.....