



¿Cuánto valen los melones que hay en la cesta?



2 euros



Un pastor tenía 124 ovejas. Vende 12 y compra 2.
¿Cuántas ovejas tendrá ahora?

Un barril de petróleo contiene 184 litros. ¿Cuántos litros se deben sacar para que queden 130?

Se entregaron 3 globos para el Día de la Paz a 65 niños.
¿Cuántos globos se han repartido?

$$30 - 17 =$$

$$5 \times 4 =$$

Si vinieran 2 y se fueran 3, ¿cuántos serían?




Nos faltan 5 cromos para reunir un centenar. ¿Cuántos cromos tenemos?

Hemos cogido 35 flores del jardín para ponerlas en dos jarrones. Si ponemos 15 flores en uno, ¿cuántas pondremos en el otro jarrón?

Si una fuente mana 46 litros por minuto, ¿cuántos litros manará en 6 minutos?

$$41 + 38 + 9 =$$

$$4 \times 7 =$$



$$\begin{array}{r} 607 \\ \times 2 \\ \hline \end{array}$$

$$\begin{array}{r} 316 \\ \times 3 \\ \hline \end{array}$$

$$\begin{array}{r} 162 \\ \times 4 \\ \hline \end{array}$$

$$\begin{array}{r} 902 \\ \times 5 \\ \hline \end{array}$$

$$\begin{array}{r} 823 \\ \times 6 \\ \hline \end{array}$$

$$\begin{array}{r} 605 \\ \times 7 \\ \hline \end{array}$$

$$\begin{array}{r} 241 \\ \times 8 \\ \hline \end{array}$$

$$\begin{array}{r} 304 \\ \times 9 \\ \hline \end{array}$$

$$\begin{array}{r} 174 \\ \times 2 \\ \hline \end{array}$$

$$\begin{array}{r} 345 \\ \times 3 \\ \hline \end{array}$$

$$\begin{array}{r} 190 \\ \times 4 \\ \hline \end{array}$$

$$\begin{array}{r} 416 \\ \times 5 \\ \hline \end{array}$$

$$\begin{array}{r} 537 \\ \times 6 \\ \hline \end{array}$$

$$\begin{array}{r} 236 \\ \times 7 \\ \hline \end{array}$$

$$\begin{array}{r} 452 \\ \times 8 \\ \hline \end{array}$$

$$\begin{array}{r} 635 \\ \times 9 \\ \hline \end{array}$$

$$\begin{array}{r} 150 \\ \times 2 \\ \hline \end{array}$$

$$\begin{array}{r} 519 \\ \times 3 \\ \hline \end{array}$$

$$\begin{array}{r} 706 \\ \times 4 \\ \hline \end{array}$$

$$\begin{array}{r} 814 \\ \times 5 \\ \hline \end{array}$$

76 Escribe los siguientes números.

685 _____

 quinientos ocho  setecientos

527 _____

 seiscientos tres  quinientos uno

684 _____

77 Realiza.

$$\begin{array}{r} 349 \\ -273 \\ \hline \end{array}$$

$$\begin{array}{r} 469 \\ -197 \\ \hline \end{array}$$

$$\begin{array}{r} 680 \\ -555 \\ \hline \end{array}$$

$$\begin{array}{r} 764 \\ -647 \\ \hline \end{array}$$

$$\begin{array}{r} 327 \\ -138 \\ \hline \end{array}$$

$$\begin{array}{r} 297 \\ -168 \\ \hline \end{array}$$

$$\begin{array}{r} 401 \\ -203 \\ \hline \end{array}$$

$$\begin{array}{r} 542 \\ -217 \\ \hline \end{array}$$

$$\begin{array}{r} 777 \\ -106 \\ \hline \end{array}$$

$$\begin{array}{r} 647 \\ -472 \\ \hline \end{array}$$

$$\begin{array}{r} 647 \\ 795 \\ +158 \\ \hline \end{array}$$

$$\begin{array}{r} 463 \\ 283 \\ +239 \\ \hline \end{array}$$


$$\begin{array}{r} 396 \\ 177 \\ +434 \\ \hline \end{array}$$

$$\begin{array}{r} 325 \\ 348 \\ +286 \\ \hline \end{array}$$

$$\begin{array}{r} 391 \\ 447 \\ +395 \\ \hline \end{array}$$

78 En un coto hay 237 perros. Llegan 451 perros. ¿Cuántos perros de caza hay en total?



Hay 

..... de caza

